

EBS 방송과 함께하는 1학년 학습꾸러미 이렇게 활용하세요!

학습꾸러미로 가정에서 알차게 공부해요!

학부모님께!

본 교에서는 EBS 방송 연계 1학년 수업에 필요한 수업 시간표부터 주간학습계획, 학생 참여 중심 활동 자료를 정선하여 학습꾸러미를 제공합니다. 코로나 19 감염 확산을 최대한 예방하기 위해 밀접 접촉을 최소화하면서, 학생들의 학습에도 결손이 없도록 최선을 다해 노력하겠습니다. 가정에서도 이 어려움을 함께 극복할 수 있도록 도와주시고, 학교 교육 일정에 적극 협조해 주시기 바랍니다.

안내사항

- ❖ 온라인 학습 기간에 이 학습 꾸러미를 사용합니다.
- ❖ 매일 8:40 학습 준비를 한 후 제일 먼저 **학생 건강 자가검진 설문조사**에 참여해주세요.
- ❖ 주간학습 안내에 학습이 끝난 후 0표시 해주세요.
- ❖ 8월 31일부터는 9:00 EBS 2TV채널과 EBS Plus2채널에서 방송을 보며 학습합니다.
- ❖ 학습꾸러미는 잘 모아두었다 등교하는 날 제출합니다. 담임선생님 확인합니다.
- ❖ **준비물** : 연필, 지우개, 색연필, 사인펜, 가위, 풀, 색종이, 2학기 교과서, 10칸 국어공책 등.

(짝수번호)

주간학습안내

9월 15일(화) , 17일(목)

전주만성초등학교

		화(9월15일)		목 (9월17일)	
		국어		국어	
1교시		EBS 국어 (국어활동)		EBS 국어 (국어2학기교과서,공책)	
		국어활동 12~15쪽		국어 48~51쪽	
2교시		통합		통합	
		EBS 가을 (가을,투명필름지,유성펜,테이프,가위,도화지,색연필)		EBS 가을 (가을,도화지,그림도구)	
		가을 46~53쪽		가을 60~63쪽	
3교시	월 (14일) 등	국어	수 (16일) 등	국어	금 (18일) 등
		받침에 주의 하며 일기 쓰기		흥내내는 말 익히기	
		학습꾸러미 3쪽		학습꾸러미 7쪽	
4교시	교	수학	교	수학	교
		100까지의 수 되돌아보기		덧셈 해보기	
		학습꾸러미 4~5쪽		학습꾸러미 8쪽	
5교시		창의적체험활동		창의적체험활동	
		나의 전설 (내 이름의 뜻 알기)		긍정적인 말 부정적인 말	
		학습꾸러미 6쪽		학습꾸러미 9~10쪽	
출석 확인					
가정 통신		❖ 매일 8:40 학습 준비를 한 후 제일 먼저 학생 건강 자가검진 설문조사에 참여해주세요. ❖ 주간학습 안내에 학습이 끝난 후 0표시 해주세요.			



화요일 - ③교시

국어 학습지

날말의 받침에 주의하며 그림일기 쓰기

1. 빈칸에 알맞은 말을 <보기>에서 찾아 써 보세요.

보기	있, 잤, 앓, 석, 닭, 낚
----	------------------



비빔밥을 었다.



이를 았다.



잠을 다.

2.

○○○○년 ○월 ○일 ○요일 날씨:



화요일 - ④교시

수학 학습지

*지금 까지 배운 100까지의 수에 대해 내가 잘 아는지 문제를 풀어 봅시다.

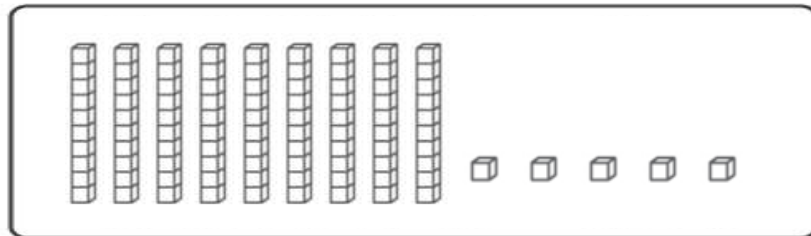
1. 다음 물음에 답하시오.

(1) □ 안에 알맞은 수를 써 넣으시오.

• 76은 10개씩 묶음과 날개 개입니다.

• 10개씩 8묶음과 날개 7개인 수는 입니다.

(2) 다음 수 모형을 보고 □ 안에 알맞은 수를 써넣으시오.



십 모형	날개 모형
<input type="text"/>	<input type="text"/>



(3) 다음 중 가장 작은 수와 가장 큰 수를 각각 찾아 쓰시오.

68 72 91 80 59

• 가장 작은 수 : () • 가장 큰 수 : ()

2. 다음 물음에 답하시오.

(1) 알맞은 말에 ○ 표 하시오.

- 79는 82보다 (큼니다 , 작습니다).
- 아흔 둘은 여든 여덟보다 (큼니다 , 작습니다).

(2) 놀이공원에 입장하려고 사람들이 한 줄로 서 있습니다. 영배는 일흔 아홉 번째, 지희는 여든 두 번째에 서 있습니다. 다음 물음에 답하시오.

- 영배와 지희 중 누가 더 빨리 입장하는지 쓰시오.

()

- 영배와 지희 사이 서 있는 사람은 모두 몇 명인지 쓰시오.

()

(3) 행복초등학교 1학년 학생 중 남학생은 여든 일곱 명, 여학생은 아흔 두 명입니다. 남학생과 여학생 중 누가 더 많은지 쓰시오.

()

(4) 1부터 9까지 숫자 중에서 □ 안에 들어갈 수 있는 수를 모두 쓰시오.

□6>79

()



화요일 - ⑤교시





창의적 체험활동 학습지

* 부모님과 함께 나에 대해 알아보고 나를 사랑하는 마음을 가져봅시다.

1. 나의 태몽 이야기를 그림으로 그리거나 글로 적어보세요.

2. 내 이름의 한자(없으면 한글)를 쓰고, 각 한자의 뜻을 ○ 옆에 적어보세요.

(이름이 2글자인 사람은 2칸을, 3글자인 사람은 3칸을, 4글자인 사람은 4칸을 씁니다.)



*내 이름의 뜻은

3. 나의 칭찬할 점 찾아 스스로를 칭찬하고 응원해 보세요.

*칭찬할 점:

*칭찬의 말:

*응원의 말:





목요일 - ③교시

국어 학습지

1. 그림을 보고 흉내 내는 말을 떠올려 써 보고 익혀봅시다.

											
남	남			씹	씹			멍	멍		

											
아	장	아	장	빙	글	빙	글	폴	짝	폴	짝

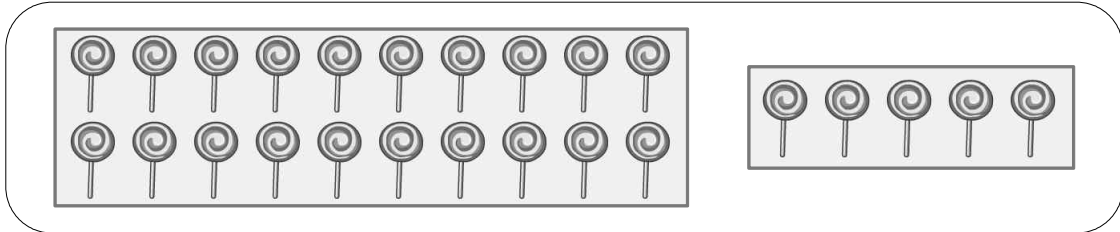
											
손	뺨	을		짝	짝	참	새	가		쨍	쨍



목요일 - ④교시

수학 학습지

1. 그림을 보고 □ 안에 알맞은 수를 써넣으세요.



$$20 + \square = \square$$

2. 덧셈을 해 보세요.

$$\begin{array}{r} 40 \\ + 9 \\ \hline \end{array}$$

$$\begin{array}{r} 57 \\ + 1 \\ \hline \end{array}$$

$$\begin{array}{r} 5 \\ + 22 \\ \hline \end{array}$$

$$\begin{array}{r} 9 \\ + 80 \\ \hline \end{array}$$

3. 덧셈을 해 보세요.

$$34 + 1 = \square$$

$$34 + 2 = \square$$

$$34 + 3 = \square$$

$$34 + 4 = \square$$

4. 방울토마토를 수현이는 12개 먹었고, 동생은 7개 먹었습니다. 수현이와 동생이 먹은 방울토마토는 모두 몇 개인지 덧셈식으로 나타내세요.

$$\square + \square = \square$$



목요일 - ⑤교시

창의적 체험활동 학습지

1. 부정적인 표현을 대신할 수 있는 긍정적인 표현과 짝지어 보세요.

부정적인 표현

긍정적인 표현

나서기를
좋아하는

•

•

한 번 더 해
봐요

잔소리

•

•

적극적인

난 해 봐야
안되요

•

•

위하는 말

2. 부정적인 표현을 긍정적인 표현으로 바꾸어서 사용하면 어떤 점이 달라 질까요? (알맞은 말에 '○'해 보세요)

다른 사람과 관계가 (좋아져요 / 나빠져요)

자신의 감정을 (숨기게 돼요 / 당당히 말해요)

나와 상대방이 (행복해져요 / 불행해져요)

3. 우리 가족을 소개해요.

(보기)

우리 엄마는 잔소리를 많이 해요.

➡ 우리 엄마는 저를 (위해)말씀을 많이 해 주셔요.

소개하고 싶은 가족 (친척이나 친구)	소개하고 싶은 말



(추가학습지)

국어 학습지

1. 주변에서 들리는 소리 또는 보이는 모양을 자신만의 흉내 내는 말로 써 봅시다.

1	빗방울이		떨어집니다.
2	장난감이		쏟아집니다.
3	소방차가		달려갑니다.
4	된장찌개가		끓습니다.
5	나뭇잎이		흔들립니다.
6	바람개비가		돌아갑니다.
7	지렁이가		기어갑니다.
8	할머니가		웃으십니다.
9	거울이		깨집니다.
10	국수를		먹습니다.

2. 그림과 어울리는 흉내 내는 말을 써 봅시다.







(추가학습지)

수학 학습지

1. 그림을 보고 □ 안에 알맞은 수를 써넣으세요.



$$44 + \square = \square$$

2. 덧셈을 해 보세요.

$$\begin{array}{r} 12 \\ + 40 \\ \hline \end{array}$$

$$\begin{array}{r} 77 \\ + 21 \\ \hline \end{array}$$

$$\begin{array}{r} 54 \\ + 31 \\ \hline \end{array}$$

$$\begin{array}{r} 63 \\ + 11 \\ \hline \end{array}$$

3. 합이 다른 덧셈식을 찾아보세요.

$$15 + 53$$

$$40 + 28$$

$$36 + 32$$

$$24 + 45$$

()

4. 공연장에 남자 21명과 여자 16명이 모여 태권도 공연을 하고 있습니다. 태권도 공연을 하는 사람은 모두 몇 명인지 덧셈식으로 나타내세요.

$$\square + \square = \square$$



(추가학습지)

창의적 체험활동 학습지

1. 코로나 19 예방을 위한 수칙을 알아보고 색연필로 색칠하며 큰 소리로 읽어봅시다. 실천이 가장 중요하겠지요?

코로나 19 예방 약속

1. 마스크 착용하기
2. 외출하고 손씻기
3. 사회적 거리유지
4. 꼭 필요할 때만
외출하기