




123

학년 반 번 이름:

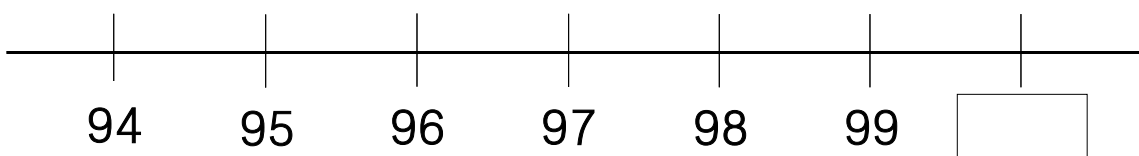
1. ○ 안에 알맞은 수를 써넣으세요.



2. 예솔이는 10개씩 들어있는 사탕을 10봉지 샀습니다. 사탕을 모두 몇 개 산 것입니까?

답 : 개

3. □ 안에 알맞은 수를 써넣으세요.



(1) 99보다 1만큼 더 큰 수는 □ 입니다.


(2) 100은 □ 이라고 읽습니다.



123

학년 반 번 이름:

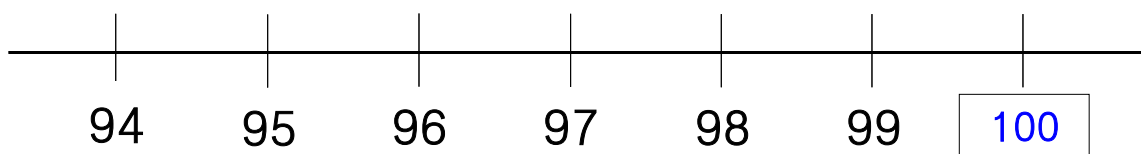
1. ○ 안에 알맞은 수를 써넣으세요.



2. 예솔이는 10개씩 들어있는 사탕을 10봉지 샀습니다. 사탕을 모두 몇 개 산 것입니까?

답 : 100 개

3. □ 안에 알맞은 수를 써넣으세요.



(1) 99보다 1만큼 더 큰 수는 100 입니다.

(2) 100은 백 이라고 읽습니다.