



수학
2-1

3. 덧셈과 뺄셈 (심화)

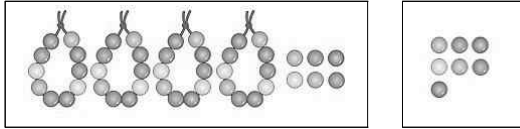
교과서 58~87쪽 / 익힘책 38~60쪽

초등학교

학년 반 번

이름 : _____

- 1 그림을 보고 덧셈을 하세요.



$$46 + 7 = \square$$

- 2 \square 안에 알맞은 수를 써넣으세요.

(1) $\begin{array}{r} \square \\ 2 \\ + \\ \hline \square \end{array}$ (2) $\begin{array}{r} \square \\ 7 \quad 9 \\ + \quad 7 \quad 3 \\ \hline \square \quad \square \end{array}$

- 3 수 카드 중에서 2장을 골라 합이 42가 되는 식을 만들어 보세요.

3 7 38 35

$$\square + \square = 42$$

- 4 25보다 크고 30보다 작은 수 중에서 \square 안에 들어갈 수 있는 수를 **모두** 쓰세요.

$$46 + \square > 73$$

()

- 5 빈칸에 알맞은 수를 써넣으세요.

+	43	77
19		
37		

- 6 수족관에 금붕어가 78마리, 송사리가 45마리 있습니다. 이 수족관에 있는 물고기는 모두 몇 마리인가요? ()

- ① 110마리 ② 113마리 ③ 118마리
④ 123마리 ⑤ 125마리

- 7 계산 결과가 가장 큰 것의 기호는 무엇인지 풀이 과정을 쓰고, 답을 구하세요.

㉠ 36+57 ㉡ 9+88 ㉢ 25+75

<풀이 과정> _____

<답> _____

- 8 식을 보고 두 자리 수의 덧셈을 계산한 방법을 바르게 설명한 사람은 누구인가요?

$$27 + 68 = 27 + 63 + 5 \\ = 90 + 5 = 95$$

세현

68을 63+5로 생각하여 27에 63을 먼저 더하고 5를 더한 거야.

원영

68을 70으로 생각하여 27에 더한 다음 2를 빼거지.

()

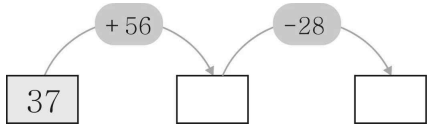
- 9 \square 안에 알맞은 수를 써넣으세요.

$$\begin{array}{r} 4 \quad \square \\ 5 \quad 6 \\ - \quad 8 \\ \hline 4 \quad 8 \end{array}$$

10 두 수의 차를 빈칸에 써넣으세요.

70	33

11 빈 곳에 알맞은 수를 써넣으세요.



12 어느 학교의 2학년 학생 중 남학생은 85명, 여학생은 67명입니다. 이 학교 2학년의 남학생 수와 여학생 수의 차는 몇 명인가요? ()

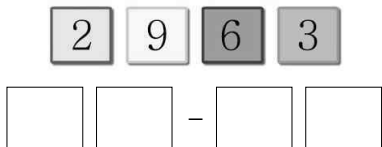
- ① 12명 ② 18명 ③ 22명
④ 28명 ⑤ 32명

13 가장 큰 수와 가장 작은 수의 차는 얼마인가요?
..... ()

43	29	67	82
----	----	----	----

- ① 14 ② 15 ③ 24
④ 39 ⑤ 53

14 주어진 숫자 카드를 한 번씩 모두 사용하여 차가 가장 큰 뺄셈식을 만들어 보세요.



15 □ 안에 알맞은 수를 써넣으세요.

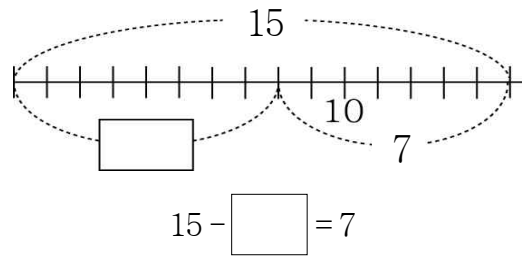
$$\begin{aligned} 81-54 &= 80-54 + \square \\ &= 26 + \square \\ &= \square \end{aligned}$$

16 연못 안에 있는 개구리는 몇 마리인지 뺄셈식으로 나타내세요.



$$12 - \square = \square$$

17 □ 안에 알맞은 수를 써넣으세요.



18 어떤 수에 56을 더해야 할 것을 잘못하여 빼더니 28이 되었습니다. 바르게 계산하면 얼마인지 풀이 과정을 쓰고, 답을 구하세요.

<풀이 과정> _____

<답> _____

19 계산 결과의 크기를 비교하여 ○ 안에 > 또는 <를 알맞게 써넣으세요.

$$63+19-25 \bigcirc 82-34+7$$

20 다음 수 중 한 개를 골라 계산식을 만들어 보세요.

10	12	15	18
----	----	----	----

$$35 + \square + 9 = 56$$