

4월 22일 3교시

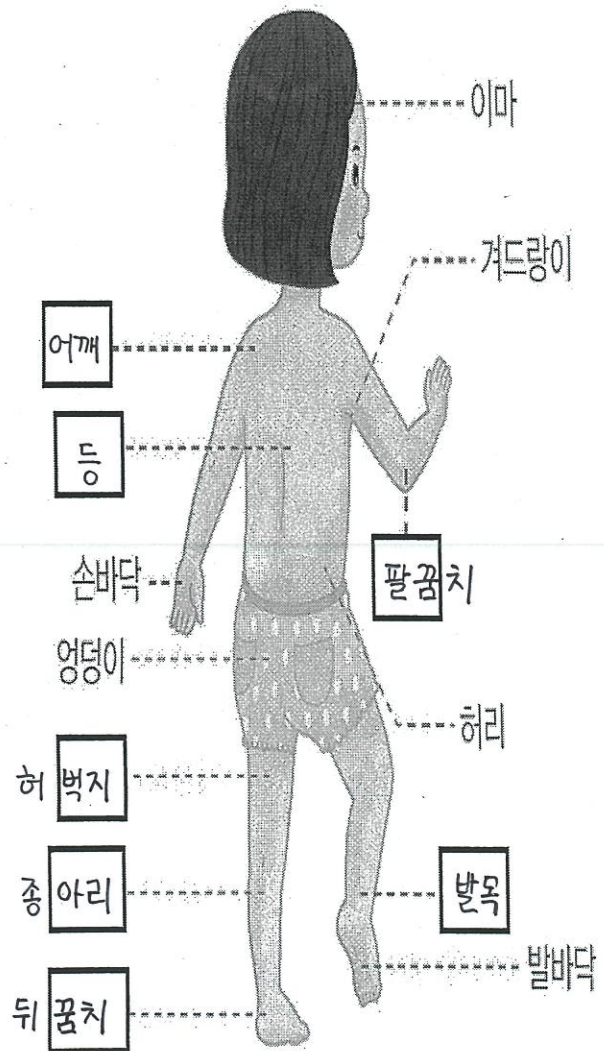
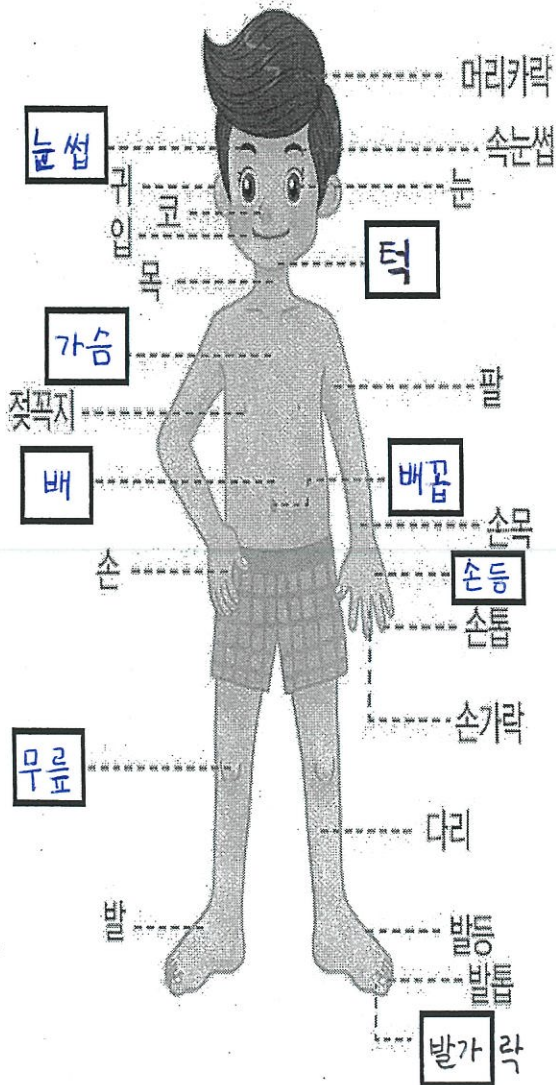
2학년 통합 (봄)	4차시	단원	1. 알쏭달쏭 나	페이지	16-19쪽
		학습 주제	나의 몸을 자세히 관찰하고 움직임 놀이하기	준비물	필기도구

[활동1] 내 몸에 있는 여러 부분의 이름을 알아보기

🐼 내 몸에 있는 여러 부분의 이름을 알아보아요.




- 내 몸의 앞과 뒤를 자세히 관찰해 보아요.
- 그림을 보고 빈 칸에 들어갈 낱말을 적어보아요.
- 잘 몰랐던 부분의 이름을 직접 찾아보거나 가족들에게 물어보아요.



2학년 수학	3차시	단원	1. 세 자리 수	페이지	㉠ 14~15쪽 ㉡ 10~11쪽
		학습 주제	세 자리 수를 알아볼까요	준비물	필기도구

[활동1] 꽃의 수를 수 모형으로 나타내기

꽃은 모두 몇 송이인지 수 모형으로 알아봅시다.



어떻게 세었는지 말해보세요.


그림으로 나타내어 보세요.

백 모형	십 모형	일 모형
100이 3 개	10이 2 개	1이 4 개

<출처: 국정 교과용 도서 2학년 수학>

수 모형을 세어보고 쓰고 읽어 보세요.

100이 3개, 10이 2개, 1이 4개이면 324입니다.
324는 삼백이십사라고 읽습니다.



<출처: 국정 교과용 도서 2학년 수학>

[활동2] 세 자리 수 쓰고 읽기

수 모형이 나타내는 수를 쓰고 읽어 봅시다.

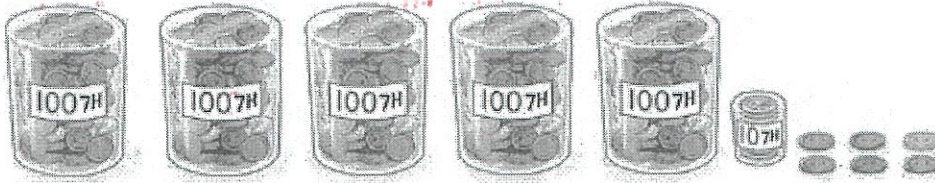
백 모형	십 모형	일 모형
100이 4 개	10이 1 개	1이 3 개

413 (이)라 쓰고 사백 십 삼 (이)라고 읽습니다.

<출처: 국정 교과용 도서 2학년 수학>

[활동3] 수 모형이 나타내는 수를 쓰고 읽기

단추의 수를 쓰고 읽어 보세요.



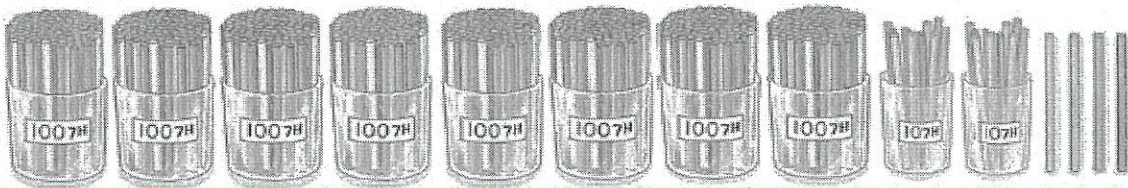
쓰기

516

읽기

오백십육

빨대의 수를 쓰고 읽어 보세요.



쓰기

824

읽기

팔백이십사

<출처: 국정 교과용 도서 2학년 수학>

[과제] 형성 평가

문제 1. 숫자로 써 보세요.

구백사십오

(945)

문제 2. □ 안에 알맞은 수를 써넣으세요.

752

100이	□
10이	□
1이	□

문제 3. 예준이는 콩을 세어 봉지에 담았습니다. 콩은 모두 몇 개입니까?

100개씩	10개씩	날개

(448) 개

<출처: 수학 2-1 전자저작물>