





과목	학습 주제
창체, 봄 - 20~21쪽	우리 몸을 알아보고 소중히 해요.
[2슬01-03] 나의 몸을 살펴보고 몸의 여러 부분의 이름과 하는 일을 관련짓는다. [창의적체험활동-자율] 장애이해교육	

1. 만약 우리 몸에 '이것'이 없다면 어떤 일이 일어날지 생각해 봅시다.


 귀가 없다면!	소리를 들을 수 없어요.
 입이 없다면!	말을 할 수 없어요.

2. 눈을 감고 아래의 문장을 네모칸에 따라 써 봅시다.

난 세상에서 가장 소중한 사람이야!

난 세상에서 가장 소중한 사람이야!

3. 다음과 같이 한 손으로 양말을 신어봅시다.







한 손으로 양말을 신어보니
어땠나요?

우리 몸은 소중한 것이지요!

우리 몸은 소중한 것이지요!

5. 아래 문장을 따라 써 봅시다.




다리	-몸 () -걸어서 () - ()
팔	-몸 () -팔 () - ()
코	- () - () - ()
	- () - () - ()
	- () - () - ()
	- () - () - ()
	- () - () - ()

4. 우리 몸이 하는 일을 정리해 봅시다.

2학년 수학	4차시	단원	1. 세 자리 수	페이지	㉡ 16~17쪽 ㉢ 12~13쪽
		학습 주제	각 자리의 숫자는 얼마를 나타낼까요	준비물	필기도구

[활동1] 수 모형으로 세 자리 수 알아보기

👉 435를 수 모형으로 알아봅시다.

백 모형	십 모형	일 모형
		
100이 4 개	10이 3 개	1이 4 개

👉 각 자리의 숫자가 나타내는 값을 생각해 봅시다.

- 435에서 4는 얼마를 나타낼까요? 400
- 435에서 3는 얼마를 나타낼까요? 30
- 435에서 5는 얼마를 나타낼까요? 5

👉 활동을 통해 무엇을 알았는지 이야기해 보세요.

백의 자리	십의 자리	일의 자리
4	3	5

4	0	0
	3	0
		5

4는 백의 자리 숫자이고, 400을 나타냅니다.
3은 십의 자리 숫자이고, 30을 나타냅니다.
5는 일의 자리 숫자이고, 5를 나타냅니다.

$$435 = 400 + 30 + 5$$

<출처: 국정 교과용 도서 2학년 수학>

[활동2] 각 자리의 숫자가 나타내는 값 알기

백의 자리	십의 자리	일의 자리
6	2	7
100이 6개	10이 2개	1이 7개
600	20	7

$$627 = 600 + 20 + 7$$

<출처: 국정 교과용 도서 2학년 수학>

[활동3] 세 자리 수의 자릿값 익히기

□안에 알맞은 수를 써넣어 봅시다.

555	1000] 5개	500
	100] 5개	50
	10] 5개	5

$$555 = 500 + 50 + 5$$

730	1000] 7개	700
	100] 3개	30
	10] 0개	0

$$730 = 700 + 30 + 0$$

<출처: 국정 교과용 도서 2학년 수학>

[과제] 형성 평가

문제 1. 보기에 1과 2가 들어갈 수를 나타내주세요.

$$508 = 500 + 8$$

$$707 = 700 + 7$$

문제 2. 986에서 9가 나타내는 값은 얼마입니까?

(900)

문제 3. 854에서 5가 나타내는 값은 얼마입니까?

(50)

문제 4. 백의 자리 숫자가 7인 수를 모두 찾아 기호를 쓰세요.

- ㉠ 307 ㉡ 173 ㉢ 726
- ㉣ 475 ㉤ 721

(㉠, ㉡, ㉢)