


과 목	수 학	날 짜	20 년 월 일
영 역	생활 속 비 활용하기		

1. 다음 그림 속 비( : )를 적어보세요!!

	<p>사탕 : 초콜릿 : 사탕</p> <p><input type="text"/> : <input type="text"/> : <input type="text"/></p>
---	--





	<p>사탕 : 초콜릿 : 사탕</p> <p><input type="text"/> : <input type="text"/> : <input type="text"/></p>
--	--





	<p>사탕 : 초콜릿 : 사탕</p> <p><input type="text"/> : <input type="text"/> : <input type="text"/></p>
---	--





과 목	수 학	날 짜	20 년 월 일
영 역	생활 속 비 활용하기		

2. 기준이 변할 때 비(:)의 변화량을 알아봅시다.

<기준>

		:		:	
생과일 주스 1잔	1	:	10	:	1

		:		:	
생과일 주스 2잔		:		:	

		:		:	
생과일 주스 4잔		:		:	