

주간 학습안내(12월 14일 ~ 12월 16일)

소룡초등학교 1학년 반 이름 :

날짜	교시	교과	학습 주제	학습 내용	교과서 및 활동지	확인(0,X)	
						학생	학부모
12/14 (월)	1	국어	겪은 일이 잘 드러나게 말하기	- 겪은 일이 잘 드러나게 말하기 ②	국어 238~239쪽, 국어활동 80~81쪽		
	2	수학	덧셈을 해 볼까요	- 덧셈을 해 볼까요(2)	수학 122~123쪽, 수학익힘 84~85쪽		
	3	창체	한자	- 하늘과 땅을 나타내는 한자 배우기	활동자료 ①		
	4	창체	독서활동	- 우리 모두 환경지킴이	활동자료 ②		
12/15 (화)	1	국어	겪은 일에 대한 생각, 느낌 말하기	- 겪은 일에 대한 생각이나 느낌 말하기 ①	국어 240~243쪽		
	2	겨울	추운 겨울을 건강하게	- 겨울에 있는 건강 문제 이야기하기 - 겨울을 건강하게 보내는 방법 알기	겨울 90~93쪽		
	3	국어	받아쓰기	- 받아쓰기 3번씩 쓰기	받아쓰기 연습노트		
	4	겨울	얼음 위에서 빙글빙글	- 겨울 놀이도구 팽이 만들기 - '팽이치기' 노래 부르기	활동자료 ③		
	5	수학	덧셈을 해 볼까요	- (몇)+(몇)=(십몇) 복습하기	활동자료 ④		
12/16 (수)	등교수업						

1. 음(소리) : 천, 훈(뜻) : 하늘

2. 음(소리) : 지, 훈(뜻) : 땅

天

< 보기 >

하늘 천

地

< 보기 >

땅 지

* <보기>처럼 한자를 쓰고 뜻과 음도 쓰세요.

一 二 天 天

天	天			
하늘 천	하늘 천			

天	天			
하늘 천	하늘 천			

一 二 地 地


地	地			
땅 지	땅 지			

地	地			
땅 지	땅 지			

우리 모두 환경지킴이



'할머니의 용궁여행'을 시청하고 거북이 포스터를 만들어 봅시다.

영상 내용	코드
<p>■ '할머니의 용궁여행&거북이 포스터 만들기' 영상</p> <p>https://youtu.be/mpHaTVSDoCM</p> <p>[출처] 유튜브 '서울특별시교육청'</p>	



아래의 환경수칙중 내가 꼭 지킬 수 있는 수칙 4가지를 골라 색칠하고 잘라 봅시다.


<환경수칙>

풀칠	음료수는 빨대 없이 마셔요.	풀칠
풀칠	페트병은 라벨 떼고 찌그러서 버려요.	풀칠
풀칠	이면지 재사용해요.	풀칠
풀칠	음식은 먹을 만큼 덜어요.	풀칠
풀칠	지구는 내가 지킨다!!	풀칠
풀칠	1회용품 사용을 줄여요.	풀칠
풀칠	전원 플러그를 뽑아요.	풀칠
풀칠	플라스틱 사용을 줄여요.	풀칠




환경지킴이 거북이 포스터를 색칠하고 꾸며 완성해 봅시다.

지구는 내가 지킨다!






겨울철 놀이도구인 팽이를 만들어봅시다.

영상 내용	코드
<p>■ 팽이 만들기 영상</p> <p>https://youtu.be/fpTIOiENr3Q</p> <p>준비물: 나무 팽이 만들기 세트</p>	



팽이를 돌려보며 노래를 불러봅시다.

영상 내용	코드
<p>■ 팽이치기 동요 영상</p> <p>https://youtu.be/JfvBsP7XNYA</p> <p>출처: 유튜브 '선생님연구소'</p>	

팽이치기

-최경진 작사 작곡

쌩쌩 쌩쌩 바람이 바람이 불어오면
 펄펄 펄펄 눈이 온다. 팽이를 치러가자
 얼음판 위에는 꽃이 핀다. 아이들 꽃이 핀다.
 아이들 눈에도 꽃이 핀다. 웃음의 꽃이 핀다.
 뽁뽁 고리내며 돌아간다. 색동옷을 곱게 입고
 뽁뽁 얼어붙은 하얀 도화지엔 동심이 그려진다.



빈칸에 ♥, ♡ 모양을 알맞게 그리고, 덧셈을 하세요.

♥	♥	♥	♥	♥
♥				

♡	♡	♡	♡	♡
♡				



♥	♥	♥	♥	♥
♥				

♡	♡			

$$6 + 6 = \boxed{}$$

$\swarrow \searrow$
 $\boxed{} \quad 2$



빈칸에 ▲, △ 모양을 알맞게 그리고, 덧셈을 하세요.

▲	▲	▲	▲	▲
▲	▲	▲	▲	

△	△	△	△	△



$$9 + 5 = \boxed{}$$

연필이 5자루 들어 있는 필통에 연필 8자루를 더 넣었습니다. 필통에 들어 있는 연필은 모두 몇 자루일까요?

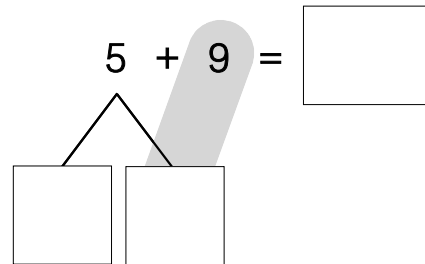
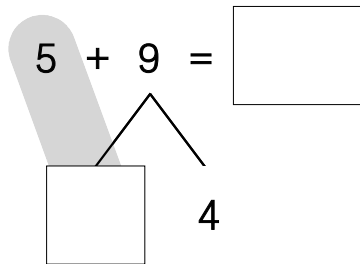

$$5 + \boxed{} = \boxed{} \quad () \text{자루}$$

꽃병에 튤립이 7송이 있었는데 9송이를 더 꽃았습니다. 꽃병에 꽃힌 튤립은 모두 몇 송이일까요?

$$\boxed{} + \boxed{} = \boxed{} \quad () \text{송이}$$



바둑돌은 모두 몇 개인지 알아보세요.



두 수의 합이 큰 것부터 차례대로 점을 이으세요.

