

주간 학습안내(10월 14일 ~ 10월 16일)

소룡초등학교 1학년 반 이름 :

날짜	교시	교과	학습 주제	학습 내용	교과서 및 활동지	확인(0,X)	
						학생	학부모
10/14 (수)	등교수업						
10/15 (목)	1	국어	바른 자세로 이야기를 함께 듣기	- 바른 자세로 이야기를 함께 듣기	국어 100~103쪽, 국어활동 32~33쪽		
	2	가을	파란 가을 하늘이 좋아요	- 가을 느낌 살려 노래 부르기 - 가을풍경이 어떻게 달라졌는지 알기	가을 116~119쪽		
	3	수학	덧셈과 뺄셈	- 그림을 보고 뺄셈하기 복습	활동자료 ①		
	4	가을	이웃 종이인형 만들기	- 주변에서 볼 수 있는 이웃 종이인형 만들기	활동자료 ②		
	5						
10/16 (금)	1	수학	여러 가지 모양을 찾아볼까요?	- 단원 도입 - 여러 가지 모양을 찾아볼까요?	수학 58~61쪽, 수학익힘 40~41쪽		
	2	안전한 생활	소중한 나	- 집단 따돌림의 유형과 해로움 알기 - 집단 따돌림 예방하기	안전한 생활 60~61쪽		
	3	수학	덧셈과 뺄셈	- 덧셈과 뺄셈 단원 마무리 복습	활동자료 ③		
	4	가을	함께 나누는 이웃	- ‘감자이웃’을 동화책 보기	활동자료 ④		

[예시]처럼 어느 것이 더 많은지 비교하는 (두 자리의 수)-(두 자리의 수)의 뺄셈을 해 봅시다.

① [예시]




(가로셈) $20 - 10 = 10$

(세로셈)

2	0
-	1 0
1	0

(젖소)가 (양)보다 (10)마리 더 많습니다.

②



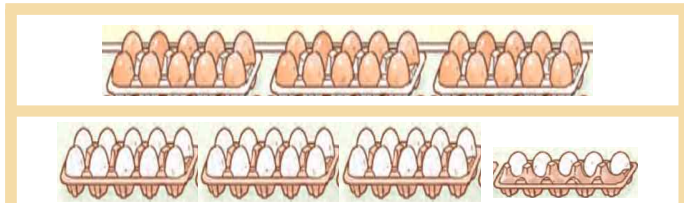
(가로셈) $\square\square - \square\square = \square\square$

(세로셈)

-	

(배)는 (사과)보다 ()개 더 많습니다.

③



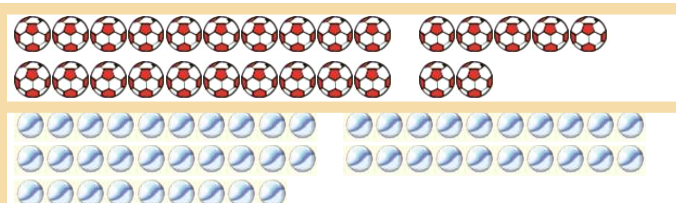
(가로셈) $\square\square - \square\square = \square\square$

(세로셈)

-	

(흰)달걀이 (노란)달걀보다 ()개 더 많습니다.

④




(가로셈) $\square\square - \square\square = \square\square$

(세로셈)

-	

(야구)공이 (축구)공보다 ()개 더 많습니다.

⑤



(가로셈) $\square\square - \square\square = \square\square$

(세로셈)

-	

()는 ()보다 ()마리 더 많습니다.

⑥



(가로셈) $\square\square - \square\square = \square\square$

(세로셈)

-	

()공이 ()공보다 ()개 더 많습니다.

이웃 종이인형 만들기

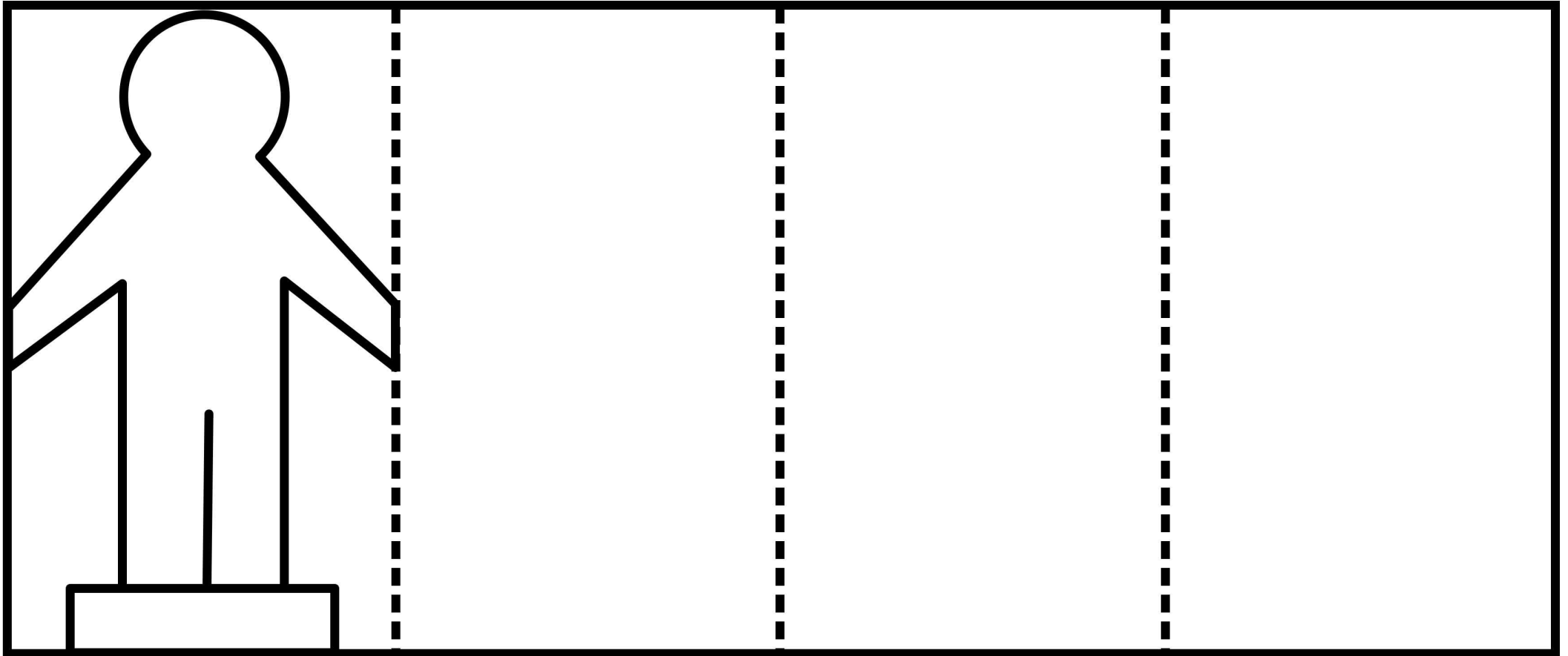


동영상을 보고 주변에서 본 이웃 종이인형을 만들어봅시다.

영상 내용

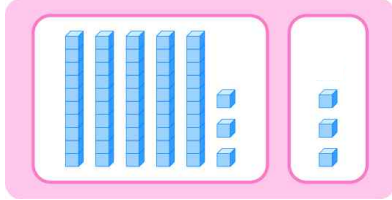
코드

- '이웃 종이인형 만들기' 영상
- 준비물 : 가위, 색연필



덧셈과 뺄셈(1) 복습

1. 그림을 보고 □ 안에 알맞은 수를 써넣으세요.



$$53 + 3 = \square$$


2. 책꽂이에 동화책이 50권 있습니다. 부모님께서 새 책을 20권 더 사 주셨습니다. 책은 모두 몇 권이 되는지 덧셈식으로 나타내세요.

$$\square + \square = \square$$

3. 계산 결과가 더 작은 쪽에 ○표 하세요.

60+16		34+45
()		()

4. □ 안에 알맞은 수를 써넣으세요.



$$\square + \square = \square$$

5. 다음은 $72 + 1$ 을 계산한 것입니다. 잘못된 부분을 찾아 바르게 계산하세요.

$$\begin{array}{r} 72 \\ + 1 \\ \hline 82 \end{array}$$

⇒



6. 두 수의 차를 구하세요.

23

58

()

7. 미나는 카드를 57장 가지고 있었습니다. 그 중에서 4장을 동생에게 주었습니다. 남은 스티커는 몇 장입니까?

()장

8. 관계있는 것끼리 이으세요.

15+60	·	76
56+20	·	75
40+46	·	86

1.

9. 뺄셈을 하세요.


(1)
$$\begin{array}{r} 77 \\ - 30 \\ \hline \end{array}$$

(2)
$$\begin{array}{r} 88 \\ - 5 \\ \hline \end{array}$$

10. 계산 결과가 30보다 큰 것에 ○표 하세요.

46-30 95-40 67-45

‘감자 이웃’ 책을 읽어 봅시다.

영상 내용	코드
■ 그림책 ‘감자 이웃’ 영상	

103호 할아버지는 아침마다 이웃들에게 무엇을 했나요?

103호 할아버지는 이웃들에게 무엇을 나누어 주었나요?

103호 할아버지의 식탁은 왜 풍성해졌나요?

책에 나온 음식들을 써보고, 이웃에게 나누어 주고 싶은 음식을 골라 ○ 그려봅시다.



ㄷ	ㅂ	ㅇ	ㅌ



ㄱ	ㅈ	ㅉ



ㄱ	ㅈ	ㅅ	ㄱ	ㄷ



ㅅ	ㅅ	ㅈ	ㄱ