


# 주간 학습안내(9월 14일 ~ 9월 16일)

소룡초등학교 1학년

반 이름 :

날짜	교시	교과	학습 주제	학습 내용	교과서 및 활동지	확인(0,X)	
						학생	학부모
9/14 (월)	1	등교수업					
	2						
	3						
	4						
9/15 (화)	1	국어	그림을 보고 문장 만들기 (1)	- 그림에 알맞은 문장 만들기	활동자료 ①		
	2	국어	받아쓰기 연습	- 받아쓰기 5급 공책에 3번 쓰기	받아쓰기 급수표		
	3	수학	덧셈과 뺄셈	- 덧셈과 뺄셈 복습하기	활동자료 ②		
	4	여름	여름나라 따라 그리기	- 투명종이에 네임펜으로 선 따라 그리기	활동자료 ③		
	5	창체	줄넘기 연습	- 자신의 단계에 맞는 줄넘기 방법 선택하여 줄넘기 연습하기	활동자료 ④		
9/16 (수)	1	국어	그림을 보고 문장 만들기 (2)	- 그림에 알맞은 문장 선으로 연결하기	활동자료 ⑤		
	2	국어	받침 있는 글자의 짜임	- 받침이 있는 낱말을 완성해보고 글자 따라 쓰기	활동자료 ⑥		
	3	수학	덧셈과 뺄셈	- 덧셈과 뺄셈 복습하기	활동자료 ⑦		
	4	창체	개구리 만들기	- 입 벌리는 개구리 만들기	활동자료 ⑧		
	5			- ‘개구리’ 노래 부르기			

'흑부리 할아버지'를 읽어 봅시다.

영상 내용	코드
<p>■ '흑부리 할아버지' 영상</p> <p>[출처] 유튜브 '아이세움'</p>	

<보기>의 말을 넣어 그림에 알맞은 문장을 만들어 봅시다.

<보기>

도깨비들이

춤을

사라졌습니다

노래를


뭉었습니다




할아버지가 \_\_\_\_\_ 부릅니다.




\_\_\_\_\_ 나타났습니다.



할아버지와 도깨비들이 \_\_\_\_\_ 춤니다.




할아버지의 흑이 \_\_\_\_\_.



도깨비들이 욕심쟁이 할아버지를 꾹꾹 \_\_\_\_\_.

# 덧셈과 뺄셈 복습하기

1. 그림을 보고 □ 안에 알맞은 수를 써넣으세요.




$$2 + 3 = \square$$

2. 빈칸에 두 수의 차를 써넣으세요.

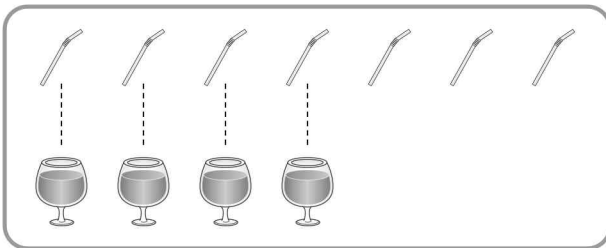
6	3

3. 다음을 덧셈식으로 써 보세요.



$$\square + \square = \square$$

4. 다음을 뺄셈식으로 써 보세요.



$$\square - \square = \square$$

5. 계산 결과가 같은 것끼리 선으로 이으세요.

$2+3$

•

$6-0$

•

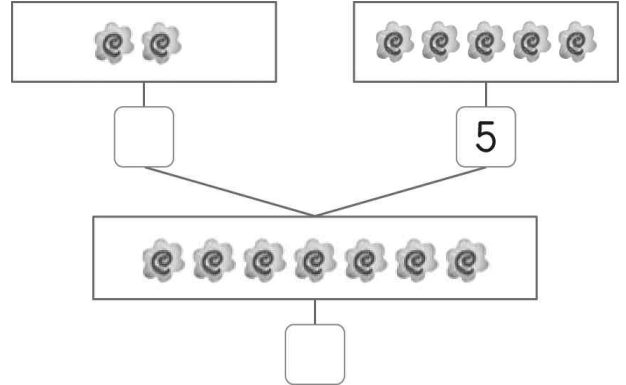
$7-1$

•

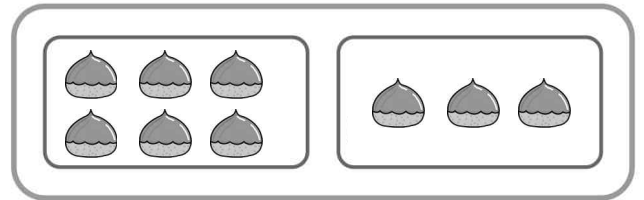
$3+2$

•

6. 그림을 보고 빈 곳에 알맞은 수를 써넣으세요.



7. 다음 그림을 보고 덧셈식을 완성하세요.



$$6 + \square = \square$$

8. 다음 그림을 보고 뺄셈식을 완성하세요.



$$\square - 3 = \square$$

9. 다음의 덧셈을 해 보세요.

$3 + 0 = \square$


$0 + 3 = \square$

10. 다음의 뺄셈을 해 보세요.

$4 - 4 = \square$


$4 - 0 = \square$

# 즐거운 여름생활



## 줄넘기 연습하기

 동영상을 보고 개인 줄넘기 연습을 해 봅시다.

영상 내용	코드
<p>■ 개인줄넘기 동영상</p> <p>■ <u>준비물: 개인줄넘기</u></p>	

## 1단계 - 양발 모아 앞으로 뛰어넘기 1개 하기

<p>① 위 동영상을 꼼꼼하게 시청합니다.</p> <p>② 줄넘기 손잡이를 두 손으로 쥐고, 두 발을 모아 바르게 섭니다.</p> <p>③ 이때 줄넘기의 줄은 두 발 뒤쪽에 내려와 있게 합니다.</p> <p>④ 준비가되면 두 발 뒤에 있던 줄넘기가 머리 위를 넘어 두 발 앞으로 오게 돌립니다.(손목 이용하기)</p> <p>⑤ 줄이 내려오면 두 발을 모아 뛰어서 줄을 넘어갑니다.</p> <p>⑥ 이 과정을 반복하며 점점 빠르게 할 수 있도록 연습합니다.</p>	<p>확인</p>
--	-----------

## 2단계 - 양발 모아 앞으로 뛰어넘기 연속으로 5개 하기


<p>① 1단계를 습득한 학생들만 2단계에 참여합니다.</p> <p>② 1단계의 과정을 쉬지 않고 연속으로 5회 성공합니다.</p>	<p>확인</p>
---	-----------

## 3단계 - 양발 모아 앞으로 뛰어넘기 200개 하기

<p>① 2단계를 습득한 학생들만 3단계에 참여합니다.</p> <p>② 양발 모아 앞으로 뛰어넘다 걸려도 숫자를 이어서 셉니다.</p> <p>③ 200개까지 줄넘기를 넘을 수 있다면 양발모아뛰어넘기 클리어.</p>	<p>확인</p>
---	-----------

# 그림을 보며 문장 만들기

그림에 맞게 선으로 이어 봅시다.



① 아빠가 • • 공을 • • 먹습니다.

② 토끼가 • • 책을 • • 읽습니다.

③ 사자가 • • 밥을 • • 씹습니다.

④ 자두가 • • 사진을 • • 잡니다.

문장을 완성하여 써 봅시다.

• \_\_\_\_\_

• \_\_\_\_\_




• \_\_\_\_\_

• \_\_\_\_\_

# 글자를 만들어요

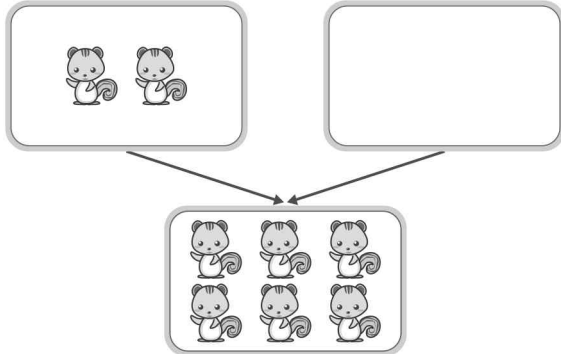


받침을 넣어 낱말을 완성하고, 글자를 따라 써 봅시다.

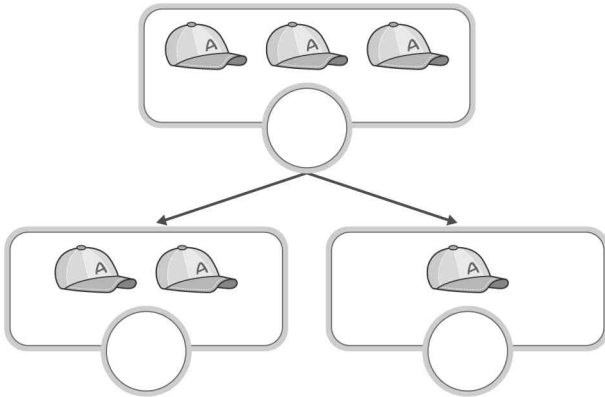
그림	자음 + 모음 + 받침 (자음)	→ 글자	글자 따라 쓰기
	ㄴ + ㅏ + ㄱ	→ 낙	낙
	ㅍ + ㅏ	→ 타	타
	+  +	→ 우	우
	+  +	→ 산	산
	+  +	→ 친	친
	+  +	→ 구	구
	+  +	→ 연	연
	+  +	→ 필	필
	+  +	→ 창	창
	+  +	→ 문	문

# 덧셈과 뺄셈 복습하기

1. 빈 곳에 알맞은 수만큼 ○를 그려 보세요.



2. 그림을 보고 빈 곳에 알맞은 수를 써넣으세요.



3. □ 안에 알맞은 수를 써넣으세요.


□ 와 6을 모으면 8이 됩니다.

4. 그림을 보고 덧셈을 하세요.



$$2 + 3 = \square$$

5. 그림을 보고 뺄셈을 하세요.



$$8 - 4 = \square$$

6. 두 수를 바꾸어 더해 보세요.

$$4 + 5 = \square$$

$$5 + 4 = \square$$

7. 다음에서 차가 가장 큰 식에 ○표 하세요.

$$8 - 8 = (\quad)$$


$$8 - 7 = (\quad)$$

$$8 - 6 = (\quad)$$

8. 두 수의 차가 9인 뺄셈식을 만들어 보세요.

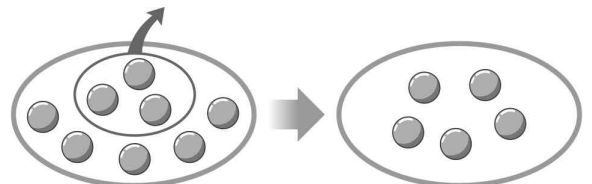
$$\square - \square = 9$$

9. 그림을 보고 덧셈식을 만들어 보세요.



$$7 + \square = \square$$

10. 그림을 보고 뺄셈식을 만들어 보세요.



$$8 - \square = \square$$



# 입 벌리는 개구리 만들기

- 개구리 만들기 영상&노래  
노래 출처: 키즈풍당
- 준비물: 가위, 풀

