

직각을 알아볼까요

» 수학 38~39쪽

공부한 날



날

날

그림과 같이 종이를 두 번 접었을 때 생기는 각을 **직각**이라고 합니다.

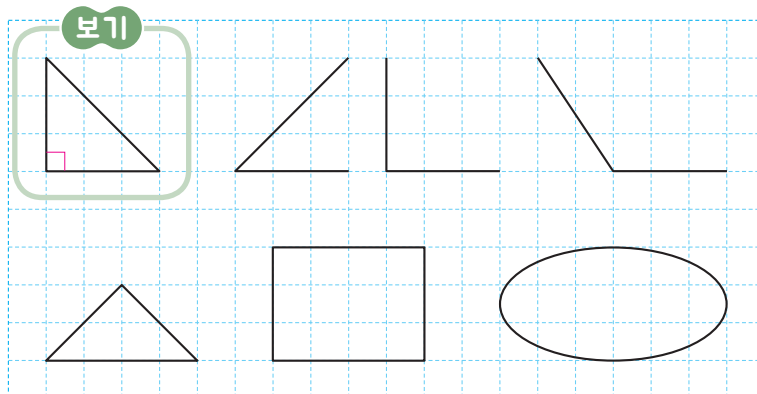


직각 \angle 을 나타낼 때에는 꼭짓점 \angle 에 \square 표시를 합니다.

1

보기와 같이 직각을 찾아 \square 로 표시해 보세요.

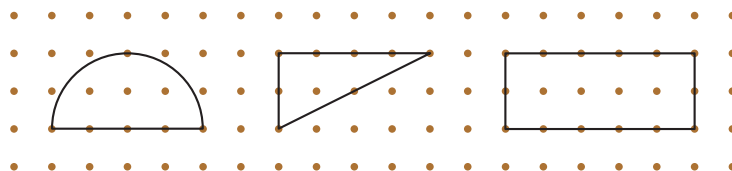
★★★



2

직각이 모두 몇 개인지 써 보세요.

★★★




개

개


개

3 삼각자를 사용하여 점 L을 꼭짓점으로 하는 직각을 그려 보세요.

★★★

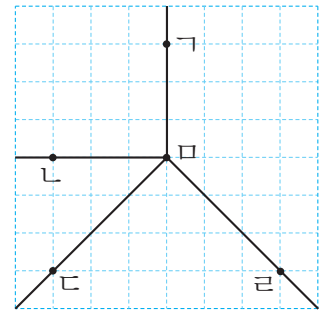


삼각자의 직각인
부분을 이용하여
그리면 돼요.



4 직각을 모두 찾아 기호로 나타내 보세요.

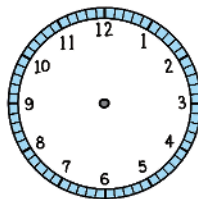
★★★



5 설명하고 있는 시각을 구해 보세요.

★★★

7시와 12시
사이의 시각이야.



시계의 긴바늘이
12를 가리키고, 긴바늘과
짧은바늘이 이루는
각은 직각이야.

