

# 선의 종류에는 어떤 것이 있을까요

» 수학 34~35쪽


공부한 날



월


일

- **선분**: 두 점을 이은 끝은 선




선분 ㄱ  
또는 선분 ㄴ

- **반직선**: 한 점에서 시작하여 한쪽으로  
끝없이 늘린 끝은 선



반직선 ㄱ  
반직선 ㄴ

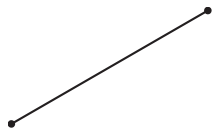
- **직선**: 선분을 양쪽으로 끝없이 늘린  
끝은 선



직선 ㄱ  
또는 직선 ㄴ

1 다음 도형을 보고 선분, 반직선, 직선을 찾아 무엇인지 써 보세요.

★★★



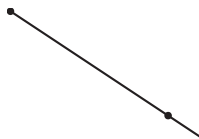
( )



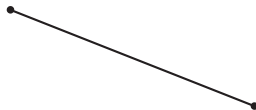
( )



( )



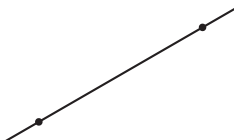
( )



( )



( )



( )



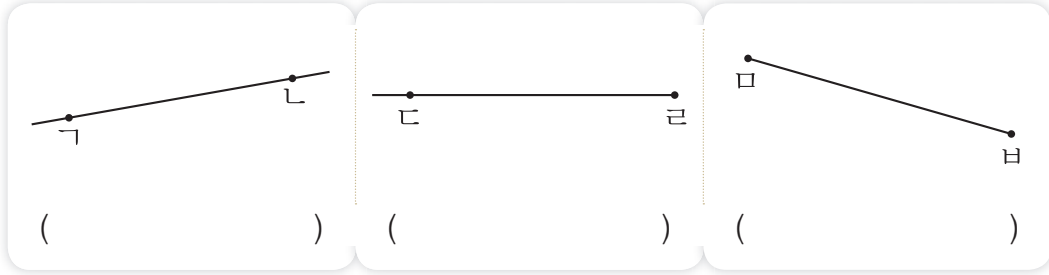
( )



( )

## 2 도형을 기호로 나타내 보세요.

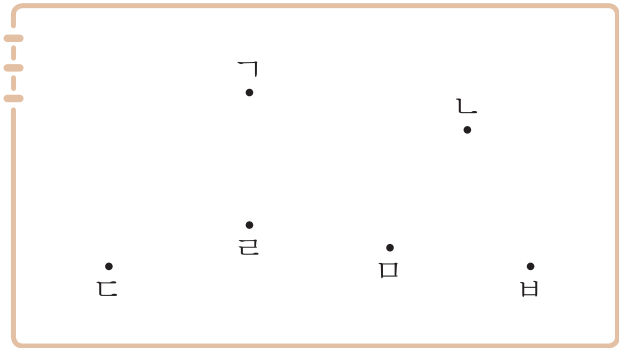
★★★



## 3 선분, 반직선, 직선을 그어 보세요.

★★★

- 선분 ㄹㅁ
- 반직선 ㄱㄷ
- 직선 ㄴㅅ



## 4 태양이가 바르게 이야기하도록 보기에서 찾아 써 보세요.

★★★

보기

두 점을 이은 굵은 선    두 점을 이은 곧은 선

반직선은 한 점에서 시작하여 한쪽으로 끝없이 늘린 곧은 선이야.

샛별

선분은 \_\_\_\_\_  
\_\_\_\_\_ 이야.

태양