



뽀뽀를 해 볼까요(2)

» 수학 20~21쪽

공부한 날



일

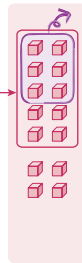
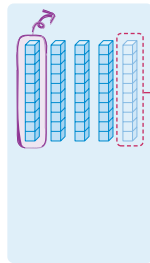
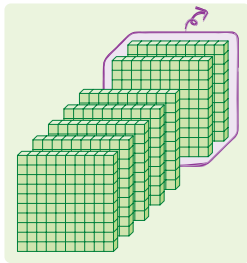
일

$$\begin{array}{r}
 \begin{array}{c} 5 \quad 10 \\ 8 \quad \cancel{6} \quad 3 \\ - 4 \quad 3 \quad 7 \\ \hline \end{array} \\
 \begin{array}{c} 10 + 3 - 7 = 6 \\ \end{array}
 \end{array}
 \Rightarrow
 \begin{array}{r}
 \begin{array}{c} 5 \quad 10 \\ 8 \quad \cancel{6} \quad 3 \\ - 4 \quad 3 \quad 7 \\ \hline \end{array} \\
 \begin{array}{c} 2 \quad 0 \\ \end{array}
 \end{array}
 \Rightarrow
 \begin{array}{r}
 \begin{array}{c} 5 \quad 10 \\ 8 \quad \cancel{6} \quad 3 \\ - 4 \quad 3 \quad 7 \\ \hline \end{array} \\
 \begin{array}{c} 4 \quad 0 \quad 0 \\ \end{array}
 \end{array}
 \Rightarrow
 \begin{array}{r}
 \begin{array}{c} 5 \quad 10 \\ 8 \quad \cancel{6} \quad 3 \\ - 4 \quad 3 \quad 7 \\ \hline \end{array} \\
 \begin{array}{c} 4 \quad 2 \quad 6 \\ \end{array}
 \end{array}$$

$50 - 30 = 20$
 $800 - 400 = 400$

1 수 모형을 보고 □ 안에 알맞은 수를 써넣으세요.

★★★



→ $754 - 216 = \square$

2 계산해 보세요.

★★★

$$640 - 316$$

$$933 - 392$$

$$\begin{array}{r}
 6 \quad 8 \quad 4 \\
 - 3 \quad 4 \quad 6 \\
 \hline
 \end{array}$$

$$\begin{array}{r}
 8 \quad 2 \quad 5 \\
 - 5 \quad 7 \quad 1 \\
 \hline
 \end{array}$$

3 계산 결과가 더 큰 것에 ○ 표 하세요.

$$\begin{array}{r} 956 \\ - 627 \\ \hline \end{array}$$

()

$$\begin{array}{r} 654 \\ - 337 \\ \hline \end{array}$$

()

4 기차에 탄 어른은 438명이고, 어린이는 261명입니다.
기차에 탄 어른이 어린이보다 몇 명 더 많은지 구해 보세요.



5 □ 안에 들어갈 수를 찾아 선으로 이어 보세요.

$$572 - \square = 303$$

$$238$$

$$684 - \square = 466$$

$$269$$

$$853 - \square = 615$$

$$218$$

6 숫자 카드 7, 3, 4 를 한 번씩만 사용하여 가장 큰 세 자리 수를 만들었습니다. 만든 수보다 237 더 작은 수를 구해 보세요.