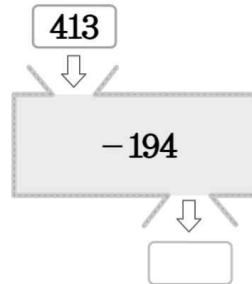


[7차시] 뺄셈을 해 볼까요(3)

교과서 20~21쪽 / 수익 16~17쪽

학년 반 번 이름:

1. □ 안에 알맞은 수를 써넣으세요.



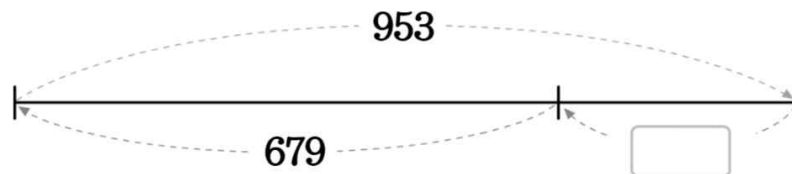
2. 계산 결과를 비교하여 ○ 안에 >, =, <를 알맞게 써넣으세요.

$$905-436 \quad \bigcirc \quad 459$$

3. 관계있는 것끼리 선으로 이어보세요.

$652-268$	•	•	477
$900-423$	•	•	384
$947-358$	•	•	589

4. 빈칸에 알맞은 수를 써넣으세요.

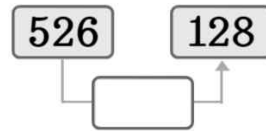
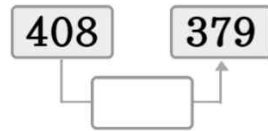


5. 계산해 보세요.

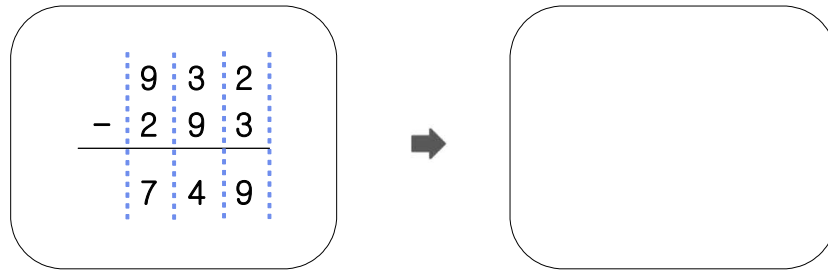
$$713-264= \square$$

$$906-349= \square$$

6. 두 수의 차를 빈칸에 써넣으세요.



7. 계산에서 잘못된 부분을 찾아 바르게 계산하고 이유를 써 보세요.



이유

8. 공연 입장권이 500장 있었는데 오늘까지 336장을 팔았습니다. 남은 공연 입장권은 몇 장입니까?

장

9. 빈칸에 알맞은 수를 써넣으세요.

$$\begin{array}{r} 6 \quad 11 \quad 10 \\ \cancel{7} \quad \cancel{2} \quad 0 \\ - 1 \quad \square \quad 3 \\ \hline \square \quad 2 \quad 7 \end{array}$$