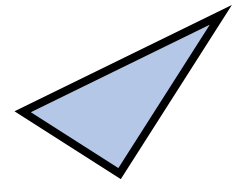



2. 여러 가지 도형



지금까지 배운 내용을 복습해 봅시다.




을 알아볼까요



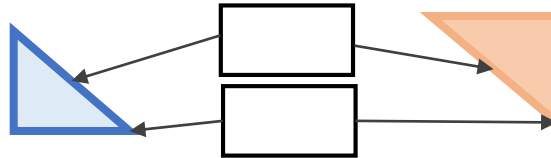

그림과 같은 모양의 도형을
_____ 이라고 합니다.

여러 가지 크기의 원을 그려보세요.




그림과 같은 모양의 도형을
_____ 이라고 합니다.

여러 가지 크기의 삼각형을 그려보세요.



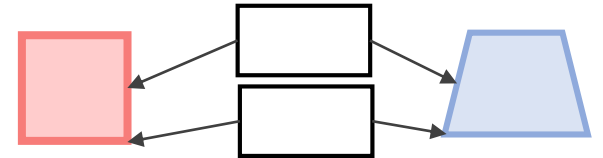
삼각형의 변은 _____ 개

삼각형의 꼭짓점은 _____ 개



그림과 같은 모양의 도형을
_____ 이라고 합니다.

여러 가지 크기의 사각형을 그려보세요.



사각형의 변은 _____ 개


사각형의 꼭짓점은 _____ 개





을 알아볼까요



그림과 같은 모양의 도형을
_____ 이라고 합니다.




그림과 같은 모양의 도형을
_____ 이라고 합니다.



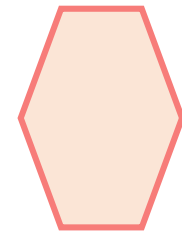

오각형의 변은 _____ 개

오각형의 꼭짓점은 _____ 개

여러 가지 크기의 오각형을 그려보세요.



여러 가지 크기의 육각형을 그려보세요.



육각형의 변은 _____ 개

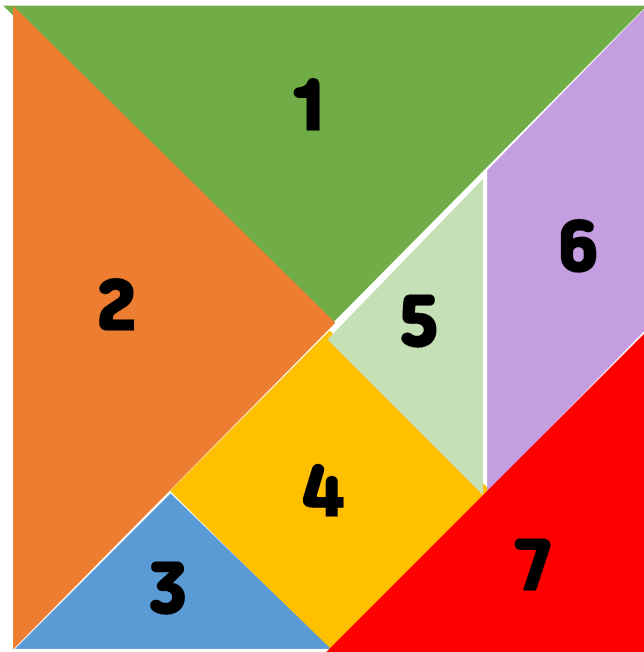
육각형의 꼭짓점은 _____ 개



칠교판으로 모양을 만들어 볼까요



색종이로 칠교판을
만들어 봅시다.



미션 1) 3, 5번 조각으로 사각형을 만들어보세요.



미션 2) 3, 4, 5번 조각으로 사각형을 만들어보세요.
[정답 여러 개]



고난이도 도전!) 1, 3, 5, 6번 조각으로 사각형을 만들어보세요. [정답 여러 개]



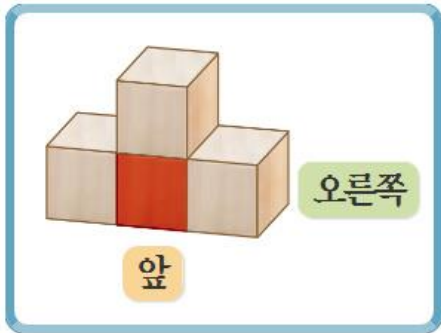
고난이도 도전!) 3, 4, 5, 6, 7번 조각으로 사각형을 만들어보세요.




똑같은 모양으로 쌓아 볼까요



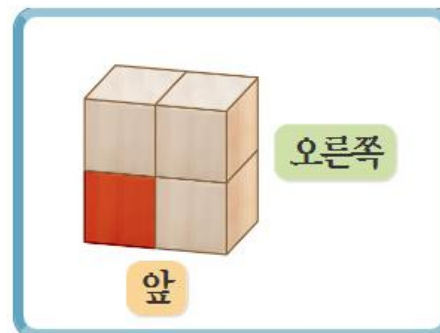
설명에 해당하는 쌓기나무에 0 표 하세요.



빨간색 쌓기나무의
왼쪽에 있는 쌓기나무.



빨간색 쌓기나무의
앞쪽에 있는 쌓기나무.



빨간색 쌓기나무의
위쪽에 있는 쌓기나무.



빨간색 쌓기나무의
오른쪽에 있는 쌓기나무.



선생님 설명을 듣고, 설명과 똑같이 쌓은 쌓기나무에 순서대로 숫자를 써 봅시다.











