



수학 기초 학습

영역

덧셈과 뺄셈

주제

여러 가지 방법으로 덧셈하기

날짜:

학년 반 번

이름:

1. 여러 가지 방법으로 덧셈하기

★ $754 + 298$ 을 여러 가지 방법으로 덧셈하기

방법1.

$$\begin{array}{r} 754 + 298 \\ \text{---} \\ 300 - 2 \\ \text{---} \\ 1054 \\ \text{---} \\ 1052 \end{array}$$

방법2.

$$\begin{array}{r} 754 + 298 \\ \text{---} \\ 750 + 4 + 290 + 8 \\ \text{---} \\ 1040 \quad 12 \\ \text{---} \\ 1052 \end{array}$$

<연습문제>

(1) 안에 알맞은 수를 써넣으시오.

1)

$$\begin{array}{r} 346 + 197 \\ \text{---} \\ 200 - \square \\ \text{---} \\ \square \\ \text{---} \\ \square \end{array}$$

2)

$$\begin{array}{r} 559 + 297 \\ \text{---} \\ \square - 3 \\ \text{---} \\ \square \\ \text{---} \\ \square \end{array}$$

3)

$$\begin{array}{r} 168 + 489 \\ \text{---} \\ 500 - \square \\ \text{---} \\ \square \\ \text{---} \\ \square \end{array}$$

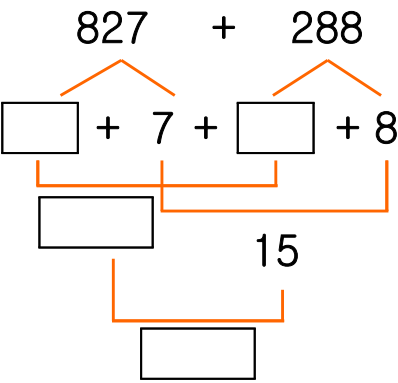
4)

$$\begin{array}{r} 475 + 488 \\ \text{---} \\ \square - 12 \\ \text{---} \\ \square \\ \text{---} \\ \square \end{array}$$

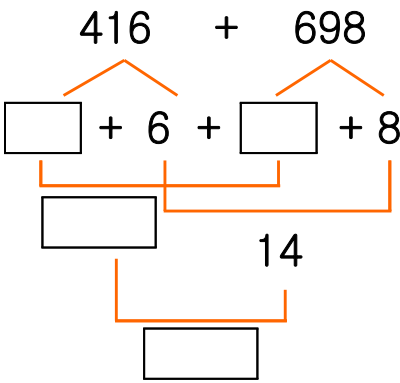
(1) 뒤에 있는 수를 <몇백 - 몇>으로 만들어 계산하면 더 쉽습니다.

(2) 안에 알맞은 수를 써넣으시오.

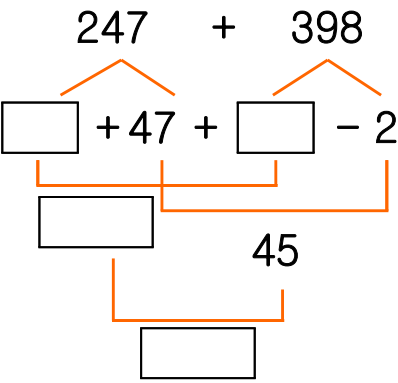
1)



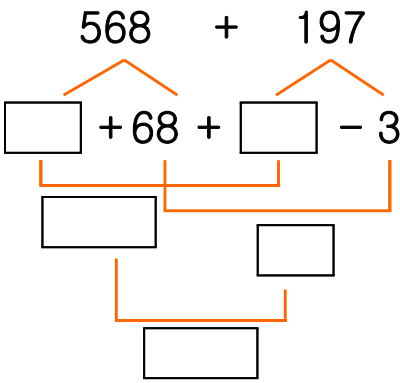
2)



3)

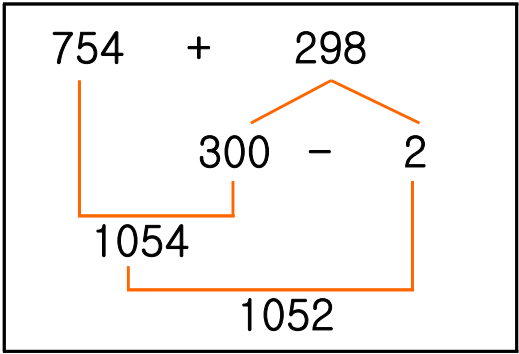


4)



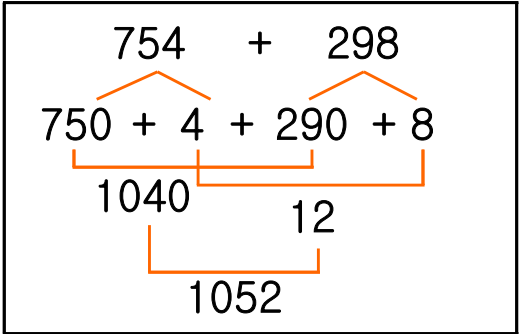
(3) 보기와 같은 방법으로 계산하시오.

1) 보기



675 + 196

2) 보기



268 + 345