


# [2차시] 선의 종류에는 어떤 것이 있을까요


교과서 30~33쪽 / 수익 20~21쪽

학년      반      번      이름:


1. 다음 도형의 이름을 써 보세요.



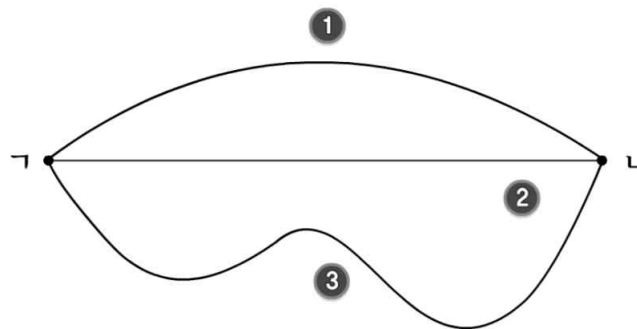
2. 다음 도형의 이름을 써 보세요.



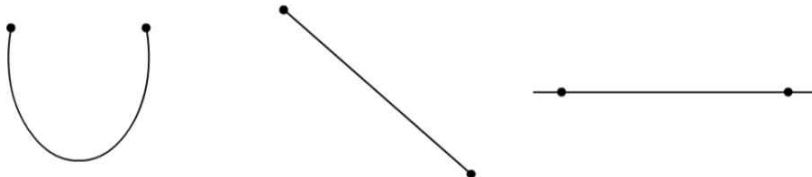
3. 다음 도형의 이름을 써 보세요.



4. 선분은 어느 것인지 찾아보세요.



5. 직선을 찾아 ○표 하세요.



6. 반직선을 찾아 ○표 하세요.

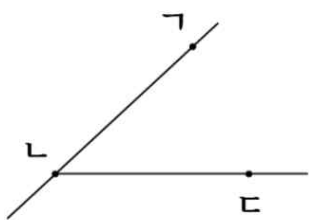


7. 그림의 선이 선분이 아닌 이유를 써 보세요.



이유 \_\_\_\_\_

8. 그림을 보고 □ 안에 알맞은 말을 써넣으세요.



점 ㄴ에서 시작하여 점 ㄷ으로 그은 선을  이라고  
 합니다. 점 ㄱ과 점 ㄴ을 지나는 직선을  또는  
 이라고 합니다.

9. 관계있는 것끼리 선으로 이어보세요.

<div>두 점을 곧게 이은 선</div>	•	<div>직선</div>
<div>한 점에서 시작하여 한쪽으로 끝없이 늘린 곧은 선</div>	•	<div>선분</div>
<div>선분을 양쪽으로 끝없이 늘린 곧은 선</div>	•	<div>반직선</div>