

6. 덧셈과 뺄셈(3)

[2차시] 10을 이용하여 모으기와 가르기를 해 볼까요

학교


학년

반

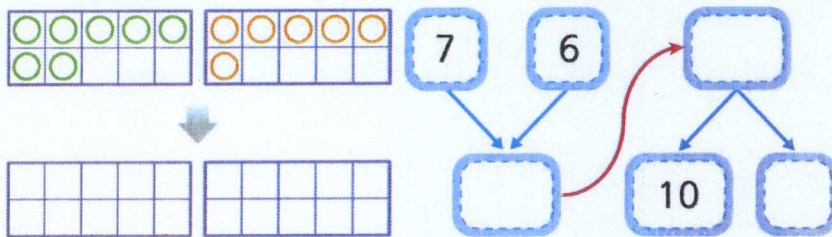
번

이름

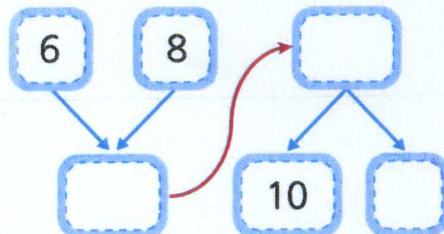
문제 1. 10을 이용하여 모으기와 가르기를 해 보세요.



문제 2. 10을 이용하여 모으기와 가르기를 해 보세요.



문제 3. 흰 달걀 6개와 노란 달걀 8개가 있습니다. 10개씩 담는 상자에 담고 남은 달걀은 몇 개인지 10을 이용하여 모으기와 가르기를 해서 알아보세요.



남은 달걀은 (

)개