

재미있는 수학	배움과 나눔으로 함께 성장하는 행복한 어린이 매일 한 장씩 복습하기(1)
월 일 요일	초등학교 2학년 ()반 ()번 이름 ()

1. 계산해 봅시다.

$\begin{array}{r} 43 \\ + 8 \\ \hline \end{array}$	$\begin{array}{r} 5 \\ + 19 \\ \hline \end{array}$	$\begin{array}{r} 21 \\ - 3 \\ \hline \end{array}$	$\begin{array}{r} 42 \\ - 7 \\ \hline \end{array}$
$\begin{array}{r} 24 \\ + 18 \\ \hline \end{array}$	$\begin{array}{r} 39 \\ + 42 \\ \hline \end{array}$	$\begin{array}{r} 80 \\ - 39 \\ \hline \end{array}$	$\begin{array}{r} 50 \\ - 11 \\ \hline \end{array}$
$\begin{array}{r} 76 \\ + 52 \\ \hline \end{array}$	$\begin{array}{r} 81 \\ + 24 \\ \hline \end{array}$	$\begin{array}{r} 93 \\ - 47 \\ \hline \end{array}$	$\begin{array}{r} 72 \\ - 18 \\ \hline \end{array}$

2. 가로 셈을 세로 셈으로 바꾸어 계산하세요.

$15 + 6 =$

$23 + 19 =$

$72 + 43 =$

$32 - 8 =$

$40 - 25 =$

$42 - 17 =$

3. 빈 칸 안에 알맞은 수를 써넣어 봅시다.

555 →

100이 5개	10이 5개	1이 5개

555 = + +

730 →

100이 7개	10이 <input type="text"/> 개	1이 <input type="text"/> 개

730 = + +

4. 규칙을 찾아 빈 칸을 알맞은 수로 채우세요.

100	200	300	
			800

5. ○안에 >, <를 알맞게 써넣으세요.

347 ○ 356

594 ○ 612

6. 원을 그려보세요.

7. 변과 꼭짓점이 3개인 도형을 그려보세요.

--	--

재미있는 수학	배움과 나눔으로 함께 성장하는 행복한 어린이 매일 한 장씩 복습하기(2)
월 일 요일	초등학교 2학년 ()반 ()번 이름 ()

1. 계산해 봅시다.

$\begin{array}{r} 24 \\ + \quad 6 \\ \hline \end{array}$	$\begin{array}{r} 5 \\ + 35 \\ \hline \end{array}$		$\begin{array}{r} 75 \\ - \quad 8 \\ \hline \end{array}$	$\begin{array}{r} 52 \\ - \quad 6 \\ \hline \end{array}$
$\begin{array}{r} 47 \\ + 26 \\ \hline \end{array}$	$\begin{array}{r} 55 \\ + 29 \\ \hline \end{array}$		$\begin{array}{r} 90 \\ - 76 \\ \hline \end{array}$	$\begin{array}{r} 30 \\ - 24 \\ \hline \end{array}$
$\begin{array}{r} 35 \\ + 95 \\ \hline \end{array}$	$\begin{array}{r} 18 \\ + 89 \\ \hline \end{array}$		$\begin{array}{r} 81 \\ - 65 \\ \hline \end{array}$	$\begin{array}{r} 34 \\ - 26 \\ \hline \end{array}$

2. 가로 셈을 세로 셈으로 바꾸어 계산하세요.

$27 + 9 =$

$37 + 36 =$

$47 + 69 =$

$25 - 9 =$

$60 - 46 =$

$96 - 58 =$

3. 빈 칸 안에 알맞은 수를 써넣어 봅시다.

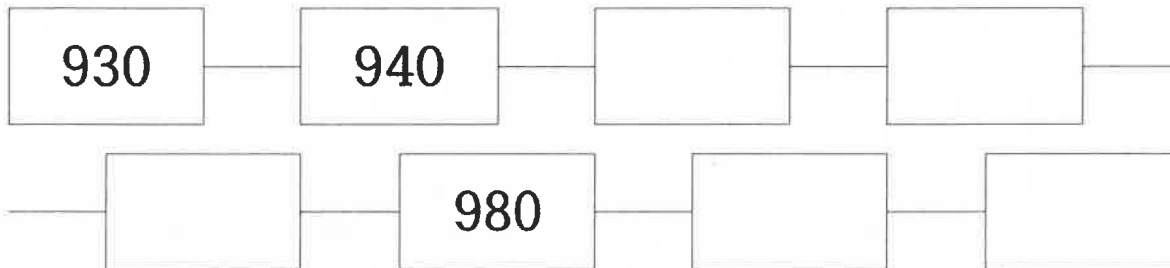
435 →	100이 4개	10이 3개	1이 5개

$$435 = \boxed{} + \boxed{} + \boxed{}$$

627 →	100이 □개	10이 □개	1이 □개

$$627 = \boxed{} + \boxed{} + \boxed{}$$

4. 규칙을 찾아 빈 칸을 알맞은 수로 채우세요.



5. ○안에 >, <를 알맞게 써넣으세요.

$$268 \quad \bigcirc \quad 312$$

$$612 \quad \bigcirc \quad 610$$

6. 변과 꼭짓점이 4개인 도형을 그려보세요.

7. 오각형 1개와 육각형 1개를 그려보세요.

--	--

재미있는 수학	배움과 나눔으로 함께 성장하는 행복한 어린이 매일 한 장씩 복습하기(3)
월 일 요일	초등학교 2학년 ()반 ()번 이름 ()

1. 계산해 봅시다.

$$\begin{array}{r} 68 \\ + 8 \\ \hline \end{array}$$

$$\begin{array}{r} 7 \\ + 89 \\ \hline \end{array}$$

$$\begin{array}{r} 24 \\ - 5 \\ \hline \end{array}$$

$$\begin{array}{r} 90 \\ - 9 \\ \hline \end{array}$$

$$\begin{array}{r} 17 \\ + 18 \\ \hline \end{array}$$

$$\begin{array}{r} 24 \\ + 38 \\ \hline \end{array}$$

$$\begin{array}{r} 90 \\ - 64 \\ \hline \end{array}$$

$$\begin{array}{r} 40 \\ - 15 \\ \hline \end{array}$$

$$\begin{array}{r} 83 \\ + 75 \\ \hline \end{array}$$

$$\begin{array}{r} 63 \\ + 60 \\ \hline \end{array}$$

$$\begin{array}{r} 52 \\ - 28 \\ \hline \end{array}$$

$$\begin{array}{r} 42 \\ - 14 \\ \hline \end{array}$$

2. 가로 셈을 세로 셈으로 바꾸어 계산하세요.

$84 + 6 =$

$14 + 78 =$

$83 + 66 =$

$32 - 6 =$

$70 - 32 =$

$72 - 24 =$

3. 빈 칸 안에 알맞은 수를 써넣어 봅시다.

721 →

100이 7개	10이 2개	1이 1개

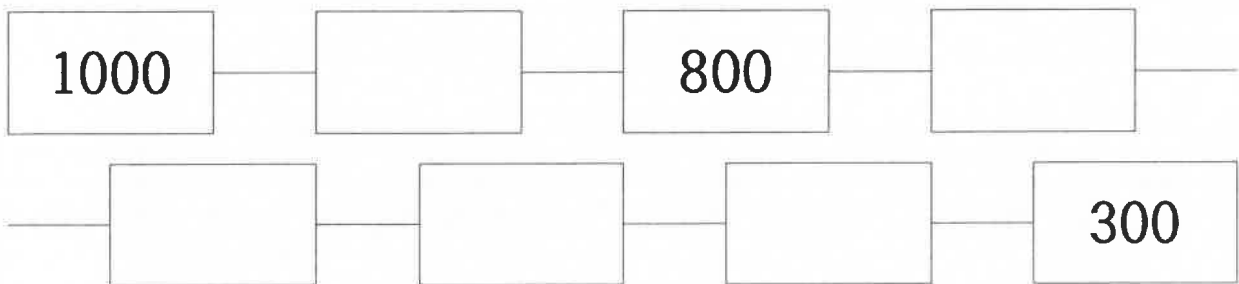
721 = + +

103 →

100이 <input type="text"/> 개	10이 <input type="text"/> 개	1이 <input type="text"/> 개

103 = + +

4. 규칙을 찾아 빈 칸을 알맞은 수로 채우세요.




5. ○안에 >, <를 알맞게 써넣으세요.

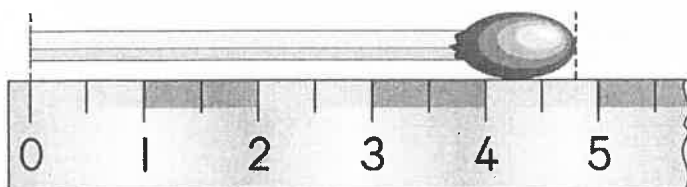
985 ○ 991

124 ○ 142

6. 아래에서 재고 있는 것들은 약 몇 cm입니까?



젤리의 길이는 약 ()cm입니다.



성낭개비의 길이는 약 ()cm입니다.

재미있는 수학	배움과 나눔으로 함께 성장하는 행복한 어린이 매일 한 장씩 복습하기(4)
월 일 요일	초등학교 2학년 ()반 ()번 이름 ()

1. 계산해 봅시다.

$$\begin{array}{r} 35 \\ + 7 \\ \hline \end{array}$$

$$\begin{array}{r} 4 \\ + 26 \\ \hline \end{array}$$

$$\begin{array}{r} 83 \\ - 8 \\ \hline \end{array}$$

$$\begin{array}{r} 41 \\ - 7 \\ \hline \end{array}$$

$$\begin{array}{r} 55 \\ + 35 \\ \hline \end{array}$$

$$\begin{array}{r} 24 \\ + 38 \\ \hline \end{array}$$

$$\begin{array}{r} 80 \\ - 54 \\ \hline \end{array}$$

$$\begin{array}{r} 40 \\ - 27 \\ \hline \end{array}$$

$$\begin{array}{r} 26 \\ + 81 \\ \hline \end{array}$$

$$\begin{array}{r} 95 \\ + 70 \\ \hline \end{array}$$

$$\begin{array}{r} 55 \\ - 48 \\ \hline \end{array}$$

$$\begin{array}{r} 52 \\ - 37 \\ \hline \end{array}$$

2. 가로 셈을 세로 셈으로 바꾸어 계산하세요.

$$25 + 8 =$$

$$19 + 22 =$$

$$35 + 74 =$$

$$61 - 4 =$$

$$60 - 35 =$$

$$68 - 59 =$$

3. 빈 칸 안에 알맞은 수를 써넣어 봅시다.

990 →

100이 9개	10이 9개	1이 0개

990 = + +

909 →

100이 <input type="text"/> 개	10이 <input type="text"/> 개	1이 <input type="text"/> 개

909 = + +

4. 규칙을 찾아 빈 칸을 알맞은 수로 채우세요.

1000		900	850
		700	

5. ○안에 >, <를 알맞게 써넣으세요.

999 ○ 1000

504 ○ 510

6. 다음 그림을 보고 물음에 답하세요.

① 머리핀과 초콜릿의 길이의 합은 몇 cm일까요?



② 길이가 긴 것부터 차례대로 쓰세요.

㉠

㉡

㉢

(, ,)

재미있는 수학	배움과 나눔으로 함께 성장하는 행복한 어린이 매일 한 장씩 복습하기(5)
월 일 요일	초등학교 2학년 ()반 ()번 이름 ()

1. 계산해 봅시다.

$\begin{array}{r} 48 \\ + \quad 3 \\ \hline \end{array}$	$\begin{array}{r} 5 \\ + 26 \\ \hline \end{array}$	$\begin{array}{r} 64 \\ - \quad 6 \\ \hline \end{array}$	$\begin{array}{r} 43 \\ - \quad 8 \\ \hline \end{array}$
$\begin{array}{r} 27 \\ + 15 \\ \hline \end{array}$	$\begin{array}{r} 44 \\ + 39 \\ \hline \end{array}$	$\begin{array}{r} 80 \\ - 42 \\ \hline \end{array}$	$\begin{array}{r} 30 \\ - 17 \\ \hline \end{array}$
$\begin{array}{r} 53 \\ + 72 \\ \hline \end{array}$	$\begin{array}{r} 23 \\ + 85 \\ \hline \end{array}$	$\begin{array}{r} 42 \\ - 23 \\ \hline \end{array}$	$\begin{array}{r} 74 \\ - 36 \\ \hline \end{array}$

2. 가로 셈을 세로 셈으로 바꾸어 계산하세요.

$65 + 9 =$

$13 + 59 =$

$36 + 72 =$

$96 - 9 =$

$50 - 19 =$


$43 - 16 =$

3. 1 센티미터를 바르게 10번 이상 쓰고, 읽어보세요.

1cm

일	센	티	미	터					

4. 선반에 여러 가지 컵이 있습니다. 물음에 답하세요.



① 무늬가 있는 것과 없는 것으로 분류하고 그 수를 세어 보세요.

무늬	있는 것	없는 것
컵의 수(개)		

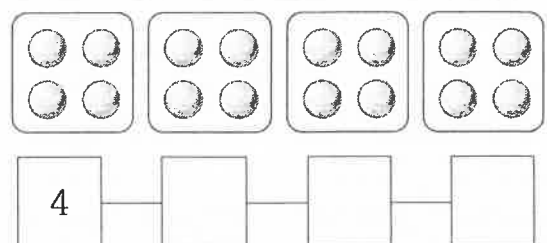
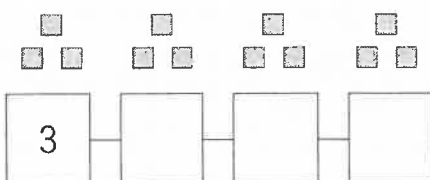
② 손잡이의 수에 따라 분류하고 그 수를 세어 보세요.

손잡이의 수	없음	1개
컵의 수(개)		

③ 무늬가 없으면서 손잡이가 있는 컵은 몇 개 일까요?

()개

5. 그림을 보고 묶어 세어 보세요.



재미있는 수학	배움과 나눔으로 함께 성장하는 행복한 어린이 매일 한 장씩 복습하기(6)
월 일 요일	초등학교 2학년 ()반 ()번 이름 ()

1. 계산해 봅시다.

$$\begin{array}{r} 18 \\ + 3 \\ \hline \end{array}$$

$$\begin{array}{r} 9 \\ + 62 \\ \hline \end{array}$$

$$\begin{array}{r} 62 \\ - 4 \\ \hline \end{array}$$

$$\begin{array}{r} 75 \\ - 9 \\ \hline \end{array}$$

$$\begin{array}{r} 46 \\ + 24 \\ \hline \end{array}$$

$$\begin{array}{r} 17 \\ + 75 \\ \hline \end{array}$$

$$\begin{array}{r} 40 \\ - 24 \\ \hline \end{array}$$

$$\begin{array}{r} 80 \\ - 17 \\ \hline \end{array}$$

$$\begin{array}{r} 55 \\ + 61 \\ \hline \end{array}$$

$$\begin{array}{r} 29 \\ + 90 \\ \hline \end{array}$$

$$\begin{array}{r} 74 \\ - 26 \\ \hline \end{array}$$

$$\begin{array}{r} 45 \\ - 26 \\ \hline \end{array}$$

2. 가로 셈을 세로 셈으로 바꾸어 계산하세요.

$8 + 24 =$

$17 + 14 =$

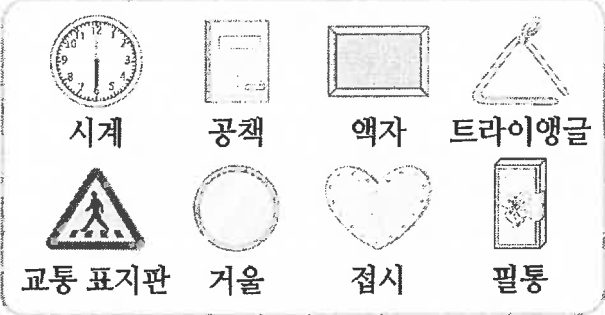
$67 + 51 =$

$52 - 8 =$

$70 - 35 =$

$52 - 26 =$

3. 그림을 보고, 물음에 답하세요.



시계 공책 액자 트라이앵글
교통 표지판 거울 접시 필통

① 옆의 물건을 분류하는 기준으로 알맞은 것에 ○표 하세요.


1) 물건의 모양 ()
2) 예쁜 것과 예쁘지 않은 것 ()
3) 비싼 것과 비싸지 않은 것 ()

② 모양에 따라 분류하여 그 수를 세어 보세요.

모양	□	○	△	♡
수(개)				


4. 아래 그림을 보고 묶어서 세어 보세요.

① 3개씩 묶어서 세어 보세요.



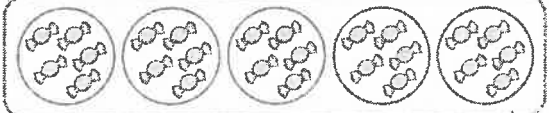
3 — ○ — ○ — ○ — 15

② 4개씩 묶어서 세어 보세요.



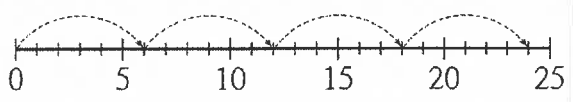
4개씩 □ 묶음입니다.

③ 5개씩 묶어서 세어 보세요.



5 — □ — □ — □ — □

④ 6칸씩 묶어서 세어 보세요.



6 — ○ — ○ — ○

5. 아래 물음에 답하세요.

<p>(1) 3의 4배와 다른 것을 모두 고르세요. (,)</p> <p>① 3 + 4 ② 3×3×3×3 ③ 3×4 ④ 3씩 4묶음 ⑤ 3 + 3 + 3 + 3</p>	<p>(2) 곱셈식 3×9 = 27로 나타낼 수 없는 것은 어느 것입니까? ()</p> <p>① 3을 9배 한 수 ② 3씩 9번 뺀 수 ③ 3과 9를 더한 수 ④ 3에 9를 곱한 수 ⑤ 세발자전거 9대의 바퀴 수</p>
---	--