
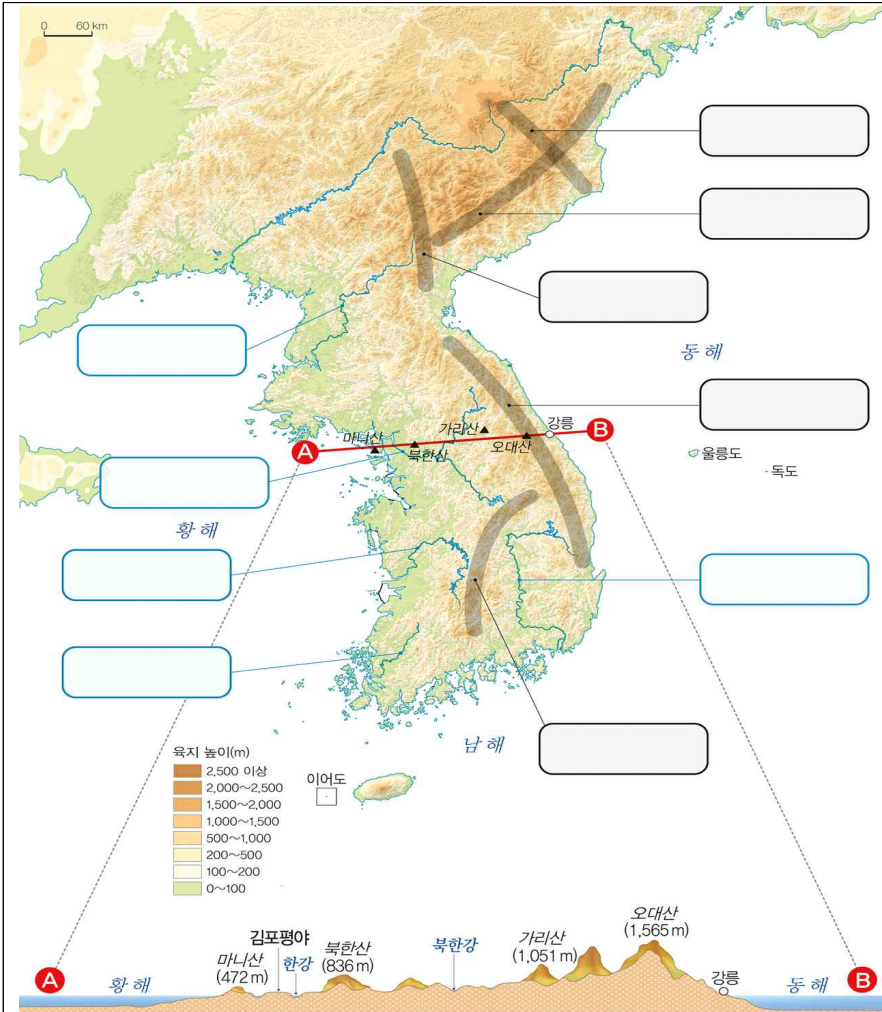


5학년 사회	7차시	단원	1. 국토와 우리 생활	페이지	29~35쪽
		학습 주제	우리나라 산지, 하천, 평야, 해안의 특징 알아보기	준비물	필기도구

[활동1] 우리나라의 산지와 하천, 평야 알아보기


 우리나라의 주요 산맥과 하천의 위치를 확인하고 이름을 찾아 써 봅시다. (활동지 3쪽을 참고하세요.)



※이미지 출처: 5학년 사회과 교과서 전자 저작물



[도움 영상]


 왼쪽의 지도를 보며 다음 글을 읽어 봅시다.

우리나라는 **국토의 약 70%가 산지이다**. 높고 험한 산은 대부분 북쪽과 동쪽에 많고, 비교적 낮은 평야는 서쪽에 발달했다.

우리나라는 대체로 **동쪽이 높고 서쪽이 낮은 지형**이며, 이러한 지형의 특징에 따라 **큰 하천은 대부분 동쪽에서 서쪽으로 흘러간다**.

하천 주변의 평야에는 농사지를 땅이 넓게 나타나며 사람이 많이 모여 사는 도시가 발달했다.

< 산지, 하천, 평야 등의 지형은 사람들의 생활과 관련이 깊다. 사람들은 지형을 이용해 살아가거나 더 나은 생활을 하려고 지형을 개발하기도 한다.

 다음은 사람들이 다양한 지형을 이용한 모습의 사진입니다. 사진에 대한 올바른 설명을 찾아 기호로 쓰세요.



• 사람들이 여가 생활을 즐길 수 있도록 높은 산지에 스키장과 휴양시설을 만든다. ()


• 평지에는 옛날부터 많은 사람들이 모여들어 큰 도시들이 발달했다. ()

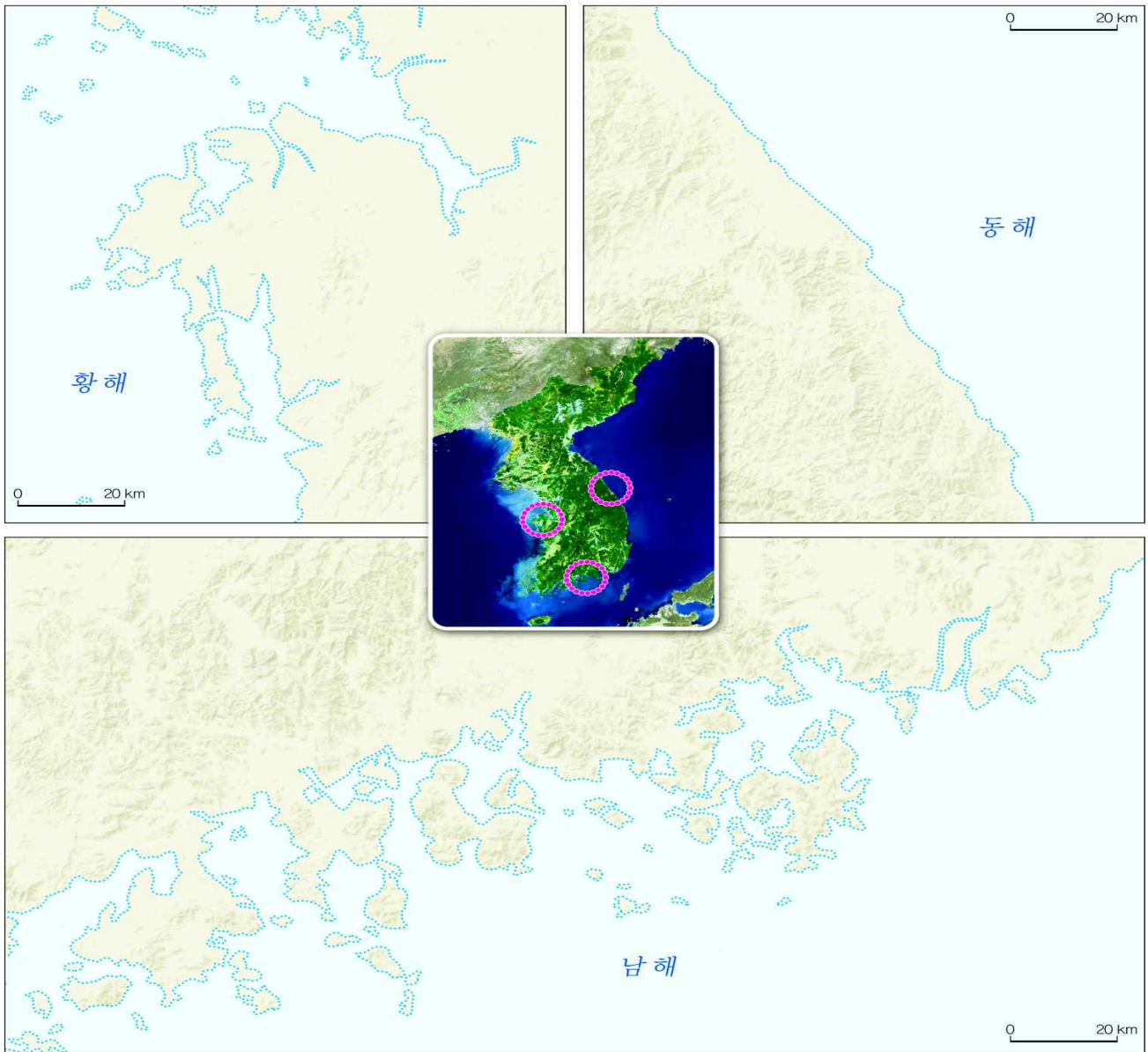
• 하천 상류에 다목적 댐을 건설해 홍수를 방지하고 전기를 생산한다. ()

• 하천 중·하류 주변 평야에서는 논농사를 많이 짓는다. ()

※이미지 출처: 5학년 사회과 교과서 전자 저작물

[활동2] 우리나라 해안의 특징 알아보기

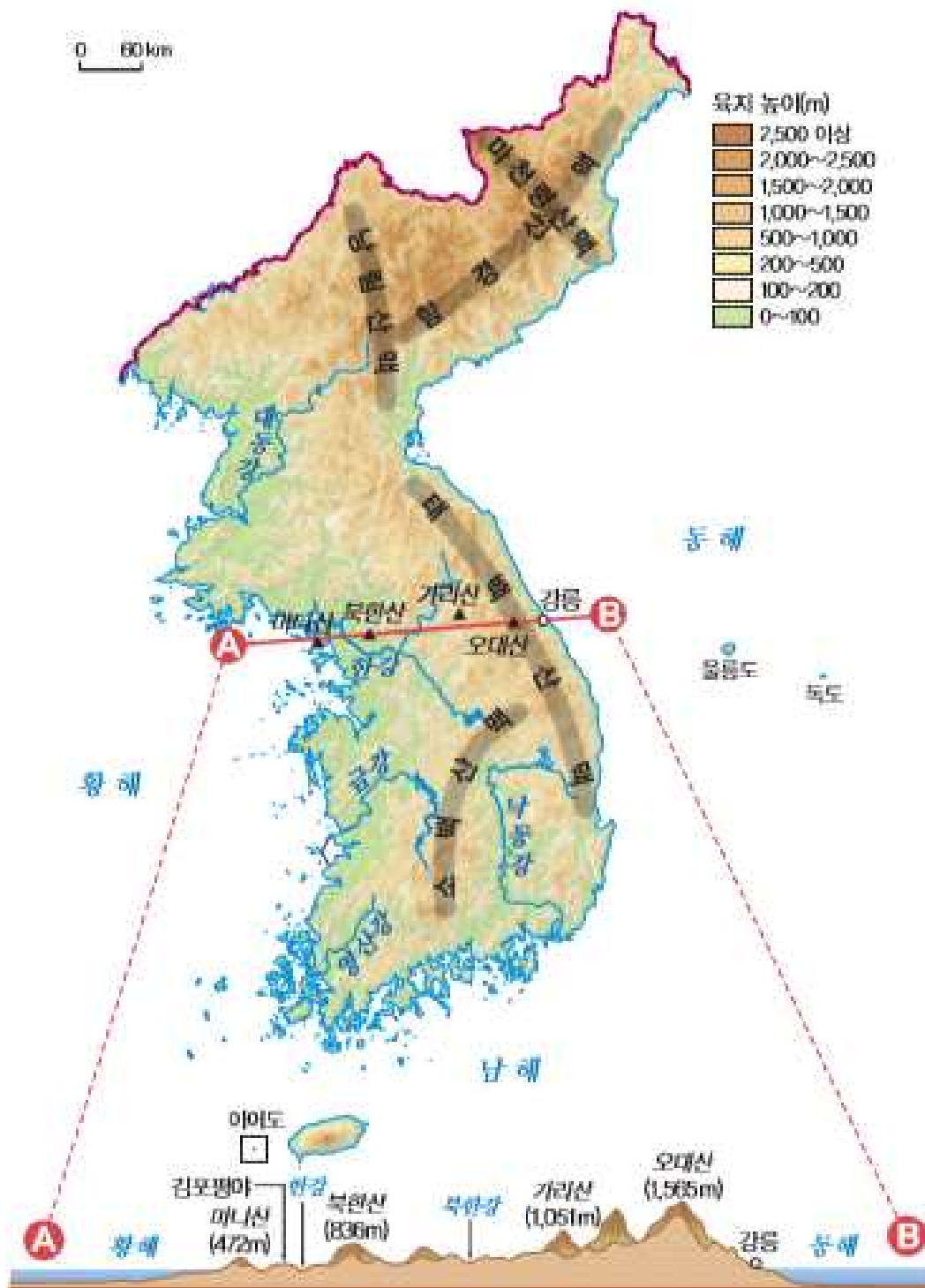
 지도에 나타난 해안선을 따라 그려 보고, 우리나라 서해안, 동해안, 남해안의 특징을 적어봅시다.



※이미지 출처: 5학년 사회과 교과서 전자 저작물

☞ 서해안:	 [도움 영상]	
☞ 동해안:		동해안(강원도 강릉)
☞ 남해안:		 남해안(경남 통영)

※이미지 출처: 5학년 사회과 교과서 전자 저작물



▲ 우리나라의 지형도(위)와 지형 단면도(아래)