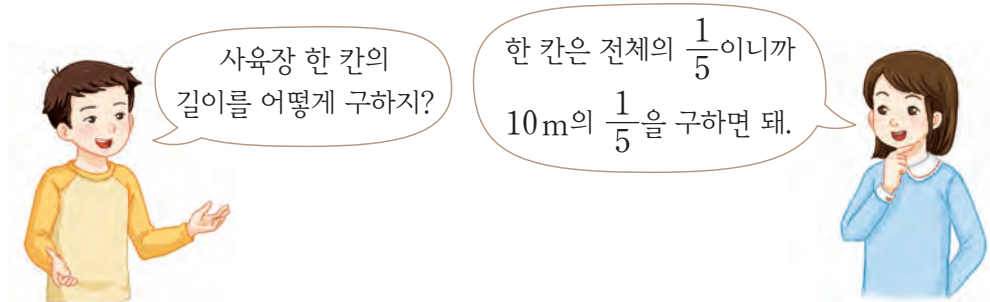



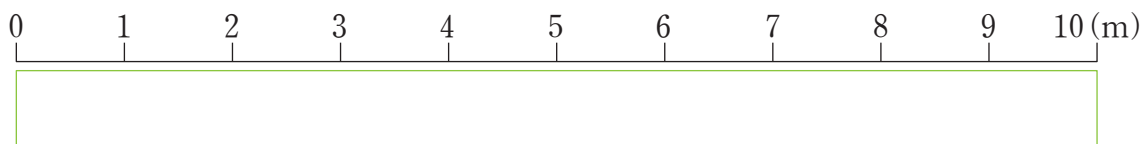


분수만큼은 얼마일까요(2)


- 한쪽 벽의 길이가 10m인 사육장을 만들어 닭과 오리를 키우려고 합니다. 사육장을 5칸으로 똑같이 나누려면 사육장 한 칸의 길이는 몇 m로 해야 하는지 알아보시다.



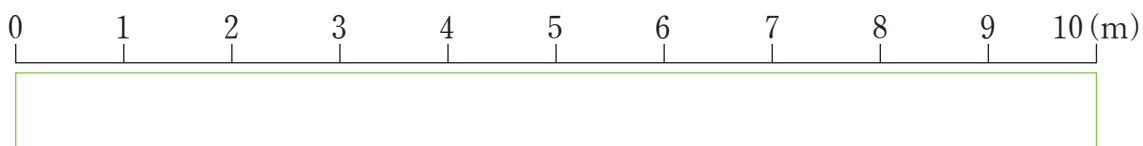
- 전체의 $\frac{1}{5}$ 만큼을 색칠해 보세요.




- 10의 $\frac{1}{5}$ 은 얼마라고 생각하나요?
- 사육장 한 칸의 길이는 몇 m로 해야 하는지 이야기해 보세요.

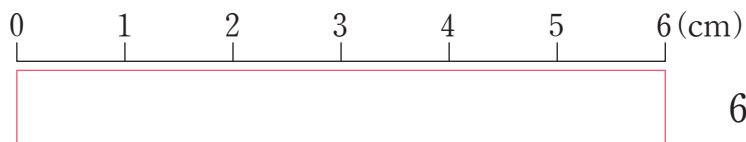
 사육장 한쪽 벽의 길이인 10m의 $\frac{3}{5}$ 만큼 닭장을 만들었습니다. 닭장의 길이는 몇 m인지 알아보시다.

- 전체의 $\frac{3}{5}$ 만큼을 색칠해 보세요.

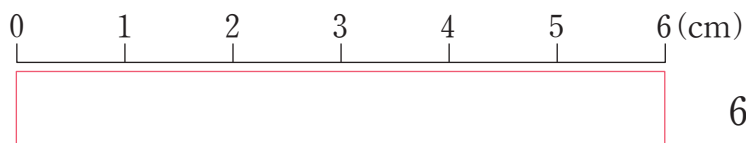


- 10의 $\frac{3}{5}$ 은 얼마라고 생각하나요?
- 닭장의 길이는 몇 m인가요?
- 어떻게 구했는지 이야기해 보세요.

 6cm의 종이띠를 분수만큼 색칠하고, 안에 알맞은 수를 써넣어 봅시다.



6cm의 $\frac{1}{3}$ 은 cm입니다.



6cm의 $\frac{2}{3}$ 는 cm입니다.