

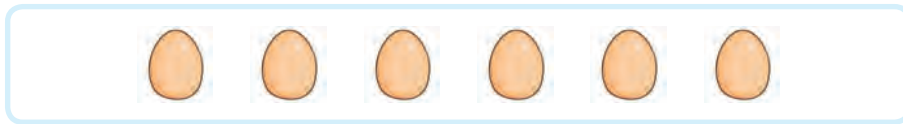


분수만큼은 얼마일까요(1)


- 달걀 6개가 부화를 시작했습니다. 부화한 달걀은 몇 개인지 알아보시다.



- 달걀 6개를 2묶음으로 똑같이 나누어 보세요.



- 전체의 $\frac{1}{2}$ 만큼을 색칠해 보세요.



- 6의 $\frac{1}{2}$ 은 얼마라고 생각하나요?


- 부화한 달걀은 몇 개인지 이야기해 보세요.

9의 $\frac{1}{3}$ 을 알아봅시다.



- 전체의 $\frac{1}{3}$ 만큼을 묶어 보세요.
- 9의 $\frac{1}{3}$ 은 얼마라고 생각하나요?
- 어떻게 구했는지 이야기해 보세요.

☐ 안에 알맞은 수를 써넣어 봅시다.



- 8의 $\frac{1}{4}$ 은 입니다.
- 8의 $\frac{3}{4}$ 은 입니다.