

8.27~8.28 EBS 학습기록장

송복초 2학년 ()반 이름 ()/ 부모님 확인()

날짜	1교시 (9:30~10:00)	2교시 (10:30~11:00)
8.27(목)	학습주제: 내용:	학습주제: 내용:
8.28(금)	학습주제: 내용:	학습주제: 내용:

8.27~8.28 독서감상록

읽은 날짜	책 제목	느낀 점, 감명 깊었던 구절이나 내용
8.27(목)		
8.28(금)		

일일수학
11math.com

2학년 2학기
2. 곱셈구구
2, 5, 3, 4의 단 곱셈구구

문제지번호 C35976B7



2020-08-24

곱셈을 하세요.

① $4 \times 7 = 28$

⑨ $3 \times 4 =$

⑰ $5 \times 4 =$

② $3 \times 2 =$

⑩ $3 \times 7 =$

⑱ $3 \times 3 =$

③ $2 \times 4 =$

⑪ $2 \times 2 =$

⑲ $5 \times 6 =$

④ $3 \times 1 =$

⑫ $2 \times 3 =$

⑳ $5 \times 2 =$

⑤ $5 \times 3 =$

⑬ $4 \times 9 =$

㉑ $2 \times 8 =$

⑥ $4 \times 3 =$

⑭ $2 \times 9 =$

㉒ $5 \times 7 =$

⑦ $5 \times 5 =$

⑮ $3 \times 5 =$

㉓ $4 \times 4 =$

⑧ $4 \times 6 =$

⑯ $4 \times 1 =$

㉔ $2 \times 7 =$

8/27 (목)

일일수학 11math.com	2학년 2학기 2. 곱셈구구 2, 5, 3, 4의 단 곱셈구구	문제지번호 184BE366  2020-08-24
---------------------------	---	---

곱셈을 하세요.

① $3 \times 5 = 15$

⑨ $5 \times 1 =$

⑰ $3 \times 4 =$

② $2 \times 2 =$

⑩ $2 \times 6 =$

⑱ $5 \times 7 =$

③ $3 \times 8 =$

⑪ $5 \times 3 =$

⑲ $3 \times 7 =$

④ $3 \times 3 =$

⑫ $2 \times 3 =$

⑳ $5 \times 8 =$

⑤ $5 \times 6 =$

⑬ $5 \times 9 =$

㉑ $2 \times 9 =$

⑥ $4 \times 1 =$

⑭ $4 \times 9 =$

㉒ $2 \times 4 =$

⑦ $4 \times 3 =$

⑮ $4 \times 7 =$

㉓ $2 \times 1 =$

⑧ $4 \times 6 =$

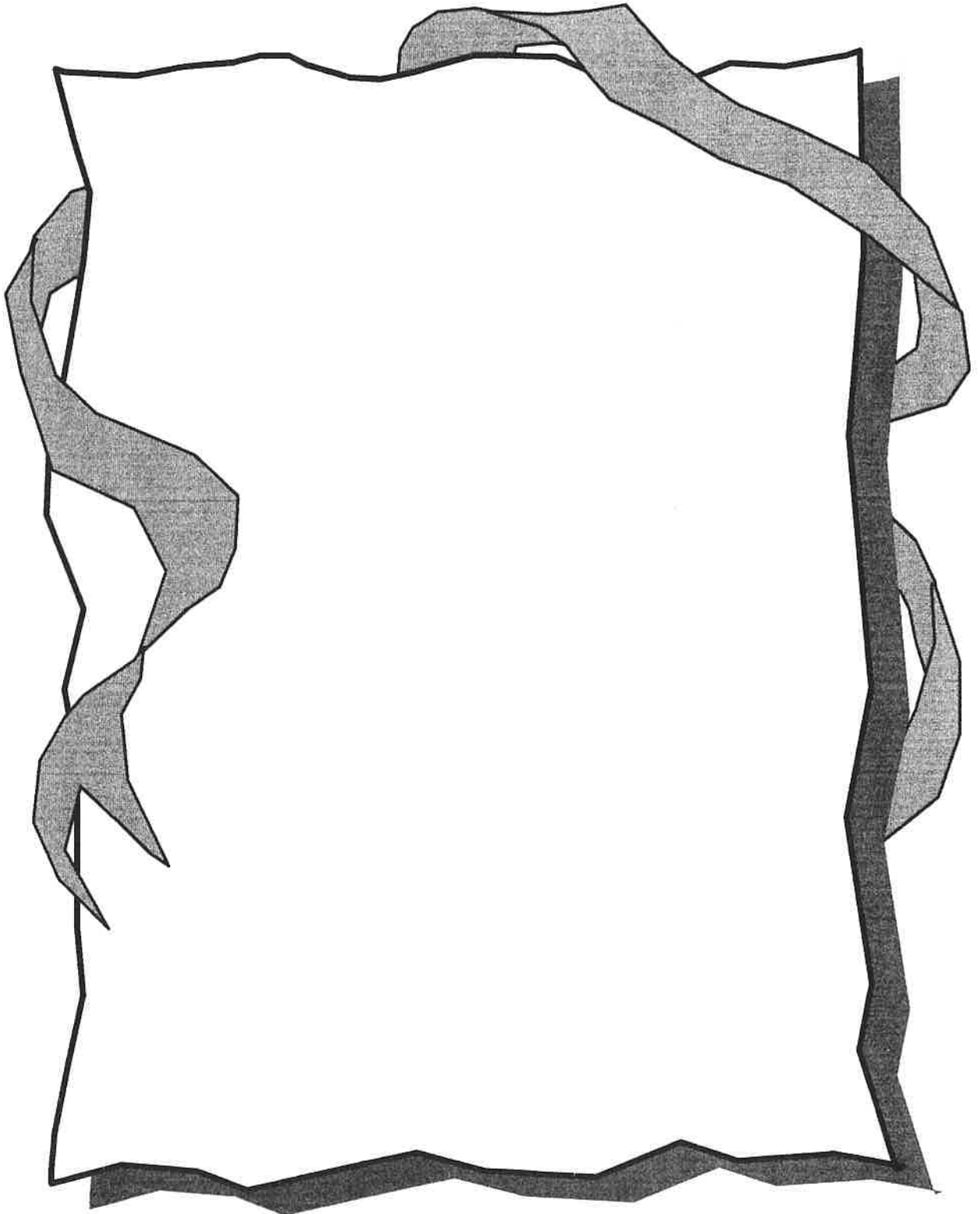
⑯ $4 \times 8 =$

㉔ $3 \times 6 =$

(독후 활동 기록)

송북초 학년 반 이름:

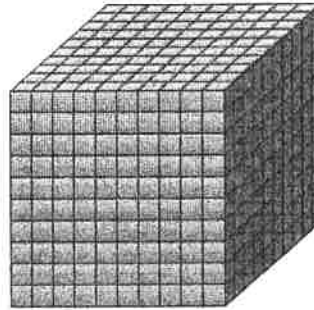
■ 동화를 읽고 떠오르는 장면을 그림으로 나타내어 보세요.





학년 반 번 이름:

1. □ 안에 알맞은 수를 써넣으세요.



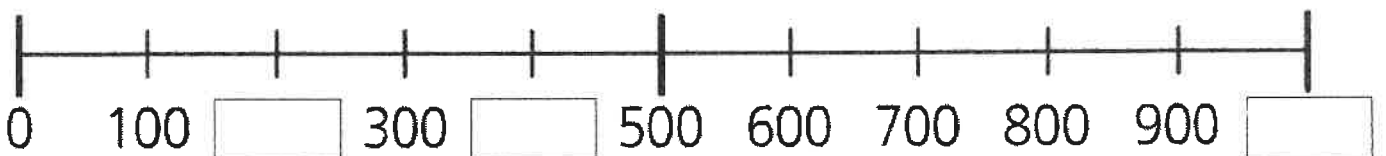
900보다 100 큰 수는 □ 이라 쓰고, □ 이라고 읽습니다.

2. 1000원이 되려면 얼마가 더 있어야 할까요?



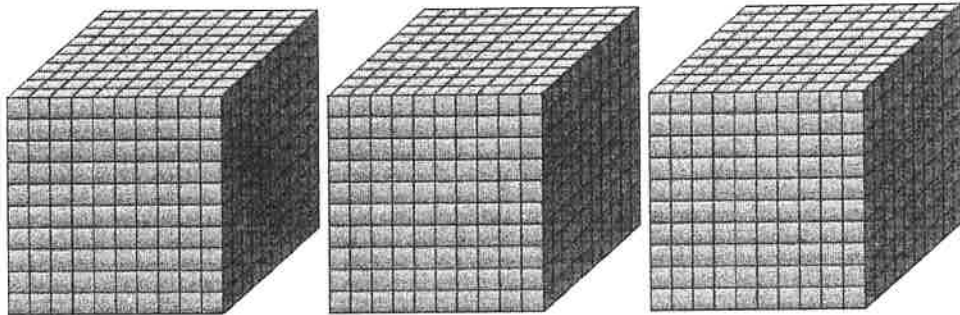
답 : 원

3. □ 안에 알맞은 수를 써넣으세요.





1. 수 모형이 나타내는 수를 쓰고 읽어 보세요.



쓰기

읽기

2. 그림을 보고 콩이 모두 몇 개인지 쓰고 읽어 보세요.



쓰기

읽기

3. 공책이 한 상자에 100권씩 들어 있습니다. 70상자에 들어 있는 공책은 모두 몇 권일까요?

답 :

권

(독후 활동 기록)

송복초 2학년 반 이름:

- 책 속에 있는 주인공의 이름이나 기억에 남는 낱말들을 넣으면서 길을 찾아가 봅시다.

