



# 수학 3-1

## 1. 덧셈과 뺄셈 (기본1)

교과서 6~27쪽 / 익힘책 5~18쪽

초등학교

학년 반 번

이름: \_\_\_\_\_

- 1 236+412를 백의 자리부터 더해 계산하려고 합니다. □ 안에 알맞은 수를 써넣으세요.

$$\begin{array}{r} 200+400=\square, 30+10=\square, 6+2 \\ =\square \text{이므로 } 236+412=\square \text{입니다.} \end{array}$$

- 2 계산해 보세요.

$$\begin{array}{r} (1) \quad \begin{array}{r} 211 \\ + 375 \\ \hline \end{array} \quad (2) \quad \begin{array}{r} 731 \\ + 156 \\ \hline \end{array} \end{array}$$

- 3 빈 곳에 알맞은 수를 써넣으세요.

$$\boxed{423} \rightarrow \boxed{+324} \rightarrow \boxed{\phantom{000}}$$

- 4 덧셈에서 □ 안의 수가 실제로 나타내는 값은 얼마인가요? ..... ( )

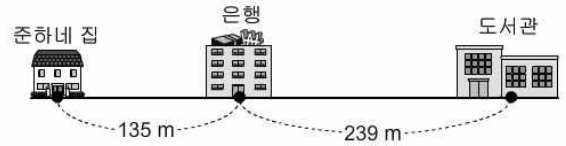
$$\begin{array}{r} \text{①} \\ 175 \\ + 508 \\ \hline 683 \end{array}$$

- ① 1      ② 10      ③ 7  
④ 70      ⑤ 100

- 5 계산 결과를 찾아 이어 보세요.

$605+188$	•	$782$
$569+213$	•	$783$
	•	$793$

- 6 준하네 집에서 은행을 거쳐 도서관까지 가는 거리는 몇 m일까요? ..... ( )



- ① 359 m      ② 363 m      ③ 374 m  
④ 382 m      ⑤ 395 m

- 7 □ 안에 알맞은 수를 써넣으세요.

$$\begin{array}{r} \square \quad \square \\ 165 \\ + 597 \\ \hline \square \end{array}$$

- 8 계산 결과를 비교하여 ○ 안에 >, =, <를 알맞게 써넣으세요.

$$\boxed{478+483} \bigcirc \boxed{695+257}$$

- 9 동물원에 입장한 남자는 725명, 여자는 649명입니다. 동물원에 입장한 사람은 모두 몇 명인지 풀이 과정을 쓰고 답을 구하세요.

<풀이 과정> \_\_\_\_\_

<답> \_\_\_\_\_

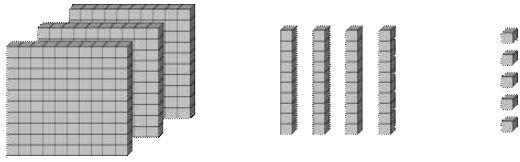
- 10 □ 안에 들어갈 수를 찾아보세요.

..... ( )

$$\begin{array}{l} 200+100=\text{㉠}, 43+29=\text{㉡} \text{이므로} \\ 243+129=\text{㉢} \text{입니다.} \end{array}$$

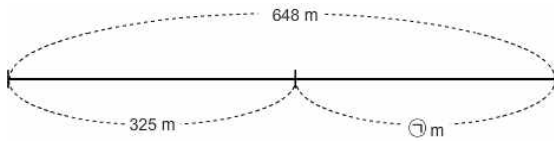
- |   |     |    |     |
|---|-----|----|-----|
|   | ㉠   | ㉡  | ㉢   |
| ① | 200 | 70 | 270 |
| ② | 200 | 72 | 272 |
| ③ | 300 | 70 | 370 |
| ④ | 300 | 72 | 372 |
| ⑤ | 300 | 27 | 327 |

11 수 모형이 나타내는 수보다 212 작은 수는 얼마일까요? ..... ( )



- ① 122      ② 123      ③ 132  
④ 133      ⑤ 143

12 그림을 보고 ㉠에 알맞은 수는 얼마인가요? ..... ( )



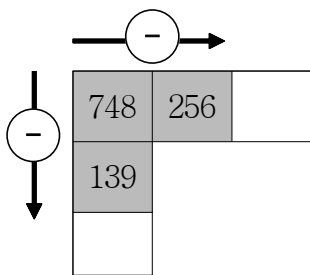
- ① 323      ② 324      ③ 325  
④ 333      ⑤ 334

13 ㉠과 ㉡에 들어갈 수를 각각 구해 보세요.

$$\begin{array}{r} 92\text{㉠} \\ - \text{㉡}18 \\ \hline 705 \end{array}$$

- ㉠ (                      )  
㉡ (                      )

14 빈 곳에 알맞은 수를 써넣으세요.



15 두 친구가 말하는 수의 차는 얼마일까요? ..... ( )

재영: 100이 3개, 10이 6개, 1이 2개인 수야.  
철운: 100이 2개, 10이 3개, 1이 8개인 수야.

- ① 116      ② 124      ③ 136  
④ 232      ⑤ 234

16 □ 안에 알맞은 수를 써넣으세요.

$$\begin{array}{r} 3\text{□}\text{□} \\ 4\text{ }3\text{ }6 \\ - 1\text{ }9\text{ }\text{□} \\ \hline 2\text{ }\text{□}\text{ }9 \end{array}$$

17 계산이 잘못된 것을 찾아 기호를 쓰세요.

- ㉠ 447-294=153  
㉡ 600-361=239  
㉢ 725-247=472

(                      )

18 길이가 5 m인 색 테이프 중에서 119 cm를 사용했습니다. 남은 색 테이프는 몇 cm인지 풀이 과정을 쓰고 답을 구하세요.

<풀이 과정> \_\_\_\_\_  
\_\_\_\_\_

<답> \_\_\_\_\_

19 다음 수 중에서 2개를 골라 뺄셈식을 만들려고 합니다. □ 안에 알맞은 수를 써넣으세요.

$$\begin{array}{ccc} 555 & 172 & 926 \\ \hline \text{□} - \text{□} = 371 \end{array}$$

20 어떤 수에 169를 더할 것을 잘못하여 빼었더니 342가 되었습니다. 어떤 수는 얼마일까요? ..... ( )

- ① 163      ② 173      ③ 183  
④ 501      ⑤ 511