

2학년



# 배움 꾸러미

2월 1주차



전주부설초등학교 2학년 2반 이름 :



## 2월 1주차 주간학습안내 및 출석표 (2.1. ~ 2.5.)

전주부설초등학교 2학년 2반 이름 :

- 이 표는 '학습 내용 확인' 및 '출석부'의 역할을 합니다. 꾸러미 결과물은 다음 등교하는 날 담임 선생님께 확인 받습니다.  
매 수업이 끝나면 학생은 '스스로 확인해요' 칸에 '○'그리기(꼭 해야함),  
하루 학습이 끝나면 부모님께서 '부모님 확인' 칸에 부모님 서명을 해주세요.
- 학습 과제에 대해 궁금한 점 등은 다음 우리 학급 등교하는 날 담임선생님께 여쭙어봅니다.
- 이번주 EBS 교육 방송은 없습니다.

교시	2월 1일(월) 온라인	2월 2일(화) 온라인	2월 3일(수) 등교	2월 4일(목) 온라인	2월 5일(금) 등교
1	창체(자율)	수학	수학	국어	국어
	겨울 개학식	2학기 수학 복습 2. 곱셈구구	2학기 수학 복습 3. 길이재기	글씨쓰기 (국어활동 100-101)	글씨쓰기 (국어활동 102-103)
	활동자료 1	활동자료 5		국어활동에 쓰기	
	스스로 확인해요	스스로 확인해요		스스로 확인해요	
2	통합	통합	수학	통합	통합
	복습-겨울잠을 자요	복습-두근두근 세계여행 빙고놀이	2학기 수학 복습 4. 시각과 시간	복습-겨울 탐정대의 친구찾기 안녕	2. 겨울 탐정대의 친구 찾기 크레파스로 표현하기
	활동자료 2	활동자료 6		활동자료 9	
	스스로 확인해요	스스로 확인해요		스스로 확인해요	
3	통합	통합	통합	통합	통합
	복습-겨울잠을 자러가요	복습-숨어있는 동물찾기	2. 겨울 탐정대의 친구 찾기 -클레이로 표현하기	복습- 가사 바꿔 부르기	2. 겨울 탐정대의 친구 찾기 크레파스로 표현하기
	활동자료 3	활동자료 7		활동자료 10	
	스스로 확인해요	스스로 확인해요		스스로 확인해요	
4	통합	창체(자율)	안전	자율	안전
	복습-두근두근 세계여행 안녕	스마트폰 중독 예방 교육	비가 많이 오고 바람이 세게 불어요(76-77쪽)	민주시민교육	눈이 많이 오고 추워요(78-83쪽)
	활동자료 4	활동자료 8		활동자료 11	
	스스로 확인해요	스스로 확인해요		스스로 확인해요	
부모님 확인			등교		등교

※ 아이가 학습하는 공간을 따로 마련해주고 바른 자세로 앉아 학습할 수 있도록 지도 부탁드립니다.  
※ 하루 학습 후 학습 결과물에 대한 내용을 짧게 이야기한 후 부모님 확인 부탁드립니다.

## 배움주제

## 겨울 방학 동안 가장 기억에 남는 일



겨울 방학 동안 있었던 일 중에서 가장 기억에 남는 일을 그림으로 그리고 글로 써봅시다.

---

---

---

---

배움주제

복습-겨울잠을 자요

1. (     )이란?

겨울에 동물이 활동을 하지 않고 땅 속 등에서 겨울을 보내는 일





2. 겨울잠을 자는 동물들을 알아보아요.

	동물 이름	특징
		겨울잠을 자기 전에 먹이를 모아둡니다. 자다가 배가 고프면 일어나서 먹고 다시 잠을 자요. 나무, 바위로 된 구멍이나 동굴에 들어가 얇은 잠을 자요.
		바위 이끼나 마른 풀을 모아 잠잘 곳을 마련해요.
		동굴이나 나무 구멍, 땅속에서 겨울잠을 자요.
		주변 온도에 따라 몸의 온도가 변해서(변온동물), 온도변화가 적은 땅속에서 겨울잠을 자요.
		물가에 땅속에나 깊은 연못에서 겨울잠을 자요.


3. 겨울잠을 자는 이유를 알아봅시다.

- 추운 날씨에 (     )를 구하기 힘들어서 추위를 견디고 (     )도 아끼기 위해 겨울잠을 자요.
- 뱀, 개구리, 남생이는 날씨가 추우면 (     )이 떨어져서 죽을 수도 있어요.

4. 겨울잠을 자는 동물들에 대해 궁금한 점을 알아봅시다.

질문	겨울잠을 자다가 깨기도 하나요?	
답변		꿈은 깊게 자지 않아서 자다 일어나기도 해요. 따뜻한 날에는 ( □ ○ )를 구하러 가기도 합니다.
		개구리와 뱀은 중간에 깨지 않고 봄이 올 때까지 죽은 듯이 잔답니다.
질문	겨울잠을 잘 때 배고프지 않나요?	
답변		죽은 듯이 자기 때문에 배가 고프지 않아요.
		( ㄱ ○ )에 먹을 수 있는 만큼 많이 먹어서 살을 찌우고 겨울을 버텨요.

5. 겨울잠을 자는 동물들을 색칠해 보아요.



지쏘미샘 (@jissomi)  
(온도 변화가 적은 곳을 찾아 겨울잠을 자요.)



## 배움주제


## 겨울잠을 자러가요

🐼 겨울잠을 자는 우리 가족의 모습을 상상하며 그림으로 표현해 봅시다.



## 배움주제

## '두근 두근 세계 여행' 안녕

 우리가 배운 세계 여러 나라의 이름을 찾아 색칠해봅시다. 모두 22개입니다!

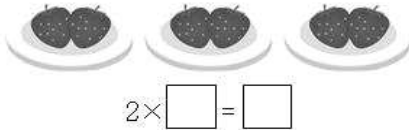
프	독	래	미	국	일	체	호	주	폴	인
랑	알	브	라	질	스	뉴	오	스	트	도
스	보	라	사	이	팜	질	하	코	자	리
아	프	카	대	로	판	랜	몽	골	메	아
중	국	모	한	로	마	드	이	난	이	그
러	랑	공	민	카	코	일	번	베	카	리
시	스	화	국	이	이	집	트	이	라	코
카	위	국	로	란	케	냐	드	트	브	스
유	스	럽	말	레	이	시	아	남	질	이
란	바	토	르	우	크	라	이	나	리	탈
핀	란	드	가	베	이	루	오	타	아	리
러	시	아	르	크	울	베	트	남	와	아
룩	셈	부	싱	가	폴	트	뉴	리	하	노
나	아	르	헨	티	나	이	델	레	바	논



배움주제

2학기 수학 복습 - '곱셈구구' 되돌아보기

- 1 접시 한 개에 딸기가 2개씩 있습니다. 접시 3개에 있는 딸기는 모두 몇 개인지 곱셈식으로 나타내어 보시오.

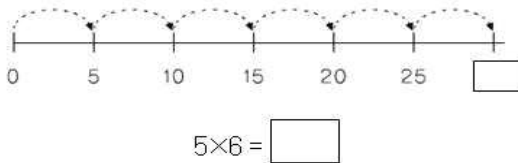


- 2 두발자전거의 바퀴는 모두 몇 개입니까?  
..... ( )



- ① 10개      ② 12개      ③ 14개  
④ 16개      ⑤ 18개

- 3 □ 안에 알맞은 수를 써넣으세요.



- 4 곱이 20보다 작은 것을 찾아 기호를 쓰세요.

㉠  $5 \times 5$     ㉡  $5 \times 3$     ㉢  $5 \times 7$

( )

- 5  $3 \times 5$ 를 계산하는 방법을 설명하였습니다. □ 안에 알맞은 수를 써넣으세요.

3씩 □ 번 더합니다.

$3 \times 5 = \square + \square + \square + \square + \square$   
 $= \square$

- 6 계산을 하세요.

(1)  $6 \times 4 = \square$

(2)  $6 \times 7 = \square$

- 7 곱이 더 작은 쪽에 △표 하세요.

$3 \times 8$	$6 \times 5$
(      )	(      )

- 8 네잎클로버의 잎은 모두 몇 장인가요? ( )



- ① 16장      ② 20장      ③ 24장  
④ 28장      ⑤ 32장

- 9 빈칸에 알맞은 수를 써넣으세요.

$\times$	3	4	5	6
8	24			

- 10 8단 곱셈구구이면서 4단 곱셈구구에도 있는 수는 모두 몇 개인가요? ..... ( )

- ① 3개      ② 4개      ③ 5개  
④ 6개      ⑤ 7개

- 11 곱셈구구를 바르게 한 식을 찾아보세요.

..... ( )

- ①  $7 \times 8 = 54$     ②  $7 \times 3 = 20$     ③  $7 \times 6 = 42$   
④  $7 \times 2 = 15$     ⑤  $7 \times 9 = 61$

- 12 한 대에 8명씩 탈 수 있는 놀이 기구가 있습니다. 놀이 기구가 모두 7대라면 한 번에 탈 수 있는 사람은 모두 몇 명인지 풀이 과정을 쓰고 답을 구하세요.

<풀이 과정> \_\_\_\_\_

<답> \_\_\_\_\_

13 9단 곱셈구구를 잘못 말한 사람은 누구입니까?

$9 \times 2 = 18$

$9 \times 6 = 54$

$9 \times 8 = 70$



희민



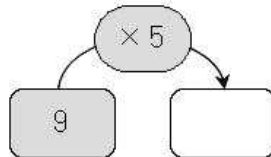
민욱



지호

( )

14 빈 곳에 알맞은 수를 써넣으세요.



15 □ 안에 공통으로 들어갈 수는 얼마인가요?

..... ( )

$2 \times \square = 2 \quad \square \times 5 = 5 \quad 8 \times \square = 8$

- ① 0      ② 1      ③ 2  
④ 3      ⑤ 5

16 어떤 수와 곱했을 때 곱의 값이 항상 0이 되는 수는 얼마인가요? ..... ( )

- ① 0      ② 1      ③ 2  
④ 3      ⑤ 5

17 공 꺼내기 놀이에서 0점짜리 공 5개, 1점짜리 공 3개, 2점짜리 공 1개를 꺼냈습니다. 꺼낸 공의 점수는 모두 몇 점인지 풀이 과정을 쓰고 답을 구하세요.

<풀이 과정> \_\_\_\_\_

\_\_\_\_\_

<답> \_\_\_\_\_

18 빈칸에 알맞은 수를 써넣으세요.

×	0	2	4	6
0				
2				
4				
6				


19 곱이 같은 것끼리 선으로 이어 보세요.

$3 \times 7$	•	•	$2 \times 8$
$5 \times 9$	•	•	$7 \times 3$
$8 \times 2$	•	•	$9 \times 5$

20 두발자전거가 9대, 세발자전거가 7대 있습니다. 자전거의 바퀴는 모두 몇 개입니까? .. ( )

- ① 18개      ② 21개      ③ 29개  
④ 39개      ⑤ 43개

<활동자료 5 정답표>

문항 번호	평가 내용	행동 영역				정답	배점 및 채점 기준			교과서 관련 쪽수
		이해	계산	추론	문제 해결		배점	채점 기준	난이도	
1	2단 곱셈구구	○				3, 6	5		하	30~31쪽
2	2단 곱셈구구				○	④	5		하	30~31쪽
3	5단 곱셈구구	○				30	5		중	32~33쪽
4	5단 곱셈구구				○	㉔	5		중	32~33쪽
5	3단 곱셈구구	○				5, 3, 3, 3, 3, 3, 15	5		하	34~37쪽
6	6단 곱셈구구		○			(1) 24 (2) 42	5	1개만 맞으면 3점	하	34~37쪽
7	3, 6단 곱셈구구				○	( △ ) (   )	5		중	34~37쪽
8	4단 곱셈구구				○	③	5		하	38~41쪽
9	8단 곱셈구구		○			32, 40, 48	5		중	38~41쪽
10	4, 8단 곱셈구구	○				②	5		상	38~41쪽
11	7단 곱셈구구	○				③	5		중	42~43쪽
12	7단 곱셈구구				○	아래 참조, 56명	5	답만 맞으면 3점	상	42~43쪽
13	9단 곱셈구구				○	지호	5		중	44~45쪽
14	9단 곱셈구구		○			45	5		중	44~45쪽
15	1단 곱셈구구	○				②	5		중	48~49쪽
16	0의 곱	○				①	5		중	48~49쪽
17	1단 곱셈구구와 0의 곱				○	아래 참조, 5점	5	답만 맞으면 3점	상	48~49쪽
18	곱셈표 만들기	○				아래 참조	5		중	50~51쪽
19	곱셈표 만들기		○				5		중	50~51쪽
20	곱셈구구를 이용하여 문제 해결하기				○	④	5		상	52~53쪽

12. 예 한 대에 8명씩 7대에 탈 수 있으므로 한 번에 모두  $7 \times 8 = 56$ (명) 탈 수 있습니다. 답 56명

17. 예 각각 꺼낸 공의 점수를 알아보면 0점짜리 공은 5개이므로  $0 \times 5 = 0$ (점), 1점짜리 공은 3개이므로  $1 \times 3 = 3$ (점), 2점짜리 공은 1개이므로  $2 \times 1 = 2$ (점)입니다. 따라서 꺼낸 공의 점수는 모두  $0 + 3 + 2 = 5$ (점)입니다. 답 5점

18.

×	0	2	4	6
0	0	0	0	0
2	0	4	8	12
4	0	8	16	24
6	0	12	24	36

배움주제

‘두근 두근 세계 여행’ 빙고놀이



내가 가고 싶은 나라의 이름을 골라 빙고 놀이를 해 보세요. (반으로 자르기)

위쪽은 내가 아래 칸은 가족 중 한 명이 사용해요.(나부터 한 번씩 돌아가며 나라 이름을 부르고 색을 칠해요)

주제: 아시아 대륙에 있는 나라			
대한민국, 일본, 인도, 베트남, 필리핀, 중국, 라오스, 캄보디아, 싱가포르, 방글라데시, 네팔, 타이완, 태국, 라오스, 미 얀마, 말레이시아, 몽골, 부탄, 브루나이, 카타르, 우즈베키스탄, 아랍에미리트, 파키스탄, 스리랑 카, 사우디아라비아 등			

주제: 아시아 대륙에 있는 나라			
대한민국, 일본, 인도, 베트남, 필리핀, 중국, 라오스, 캄보디아, 싱가포르, 방글라데시, 네팔, 타이완, 태국, 라오스, 미 얀마, 말레이시아, 몽골, 부탄, 브루나이, 카타르, 우즈베키스탄, 아랍에미리트, 파키스탄, 스리랑 카, 사우디아라비아 등			

# 자르기 뒷면

주제: 아메리카 대륙에 있는 나라			
미국, 콜롬비아, 캐나다, 멕시코, 과테말라, 칠레, 브라질, 아르헨티나, 쿠바, 페루, 자메이카, 우루과이, 아이티, 파나마, 에콰도르, 바하마 등			

주제: 아메리카 대륙에 있는 나라			
미국, 콜롬비아, 캐나다, 멕시코, 과테말라, 칠레, 브라질, 아르헨티나, 쿠바, 페루, 자메이카, 우루과이, 아이티, 파나마, 에콰도르, 바하마 등			



# 자르기 뒷면

주제: 아프리카 대륙에 있는 나라			
탄자니아, 모로코, 남아프리카 공화국, 우간다, 보츠와나, 이집트, 모리셔스, 콩고, 가나, 케냐, 나이지리아, 알제리, 르완다, 소말리아, 앙골라 등			

주제: 아프리카 대륙에 있는 나라			
탄자니아, 모로코, 남아프리카 공화국, 우간다, 보츠와나, 이집트, 모리셔스, 콩고, 가나, 케냐, 나이지리아, 알제리, 르완다, 소말리아, 앙골라 등			

# 자르기 뒷면

주제: 유럽, 오세아니아 대륙에 있는 나라			
폴란드, 벨기에, 영국, 프랑스, 스위스, 아이슬란드, 포르투갈, 독일, 스페인, 이탈리아, 크로아티아, 오스트리아, 루마니아, 덴마크, 안도라, 헝가리, 오스트레일리아, 네덜란드 등			

주제: 유럽, 오세아니아 대륙에 있는 나라			
폴란드, 벨기에, 영국, 프랑스, 스위스, 아이슬란드, 포르투갈, 독일, 스페인, 이탈리아, 크로아티아, 오스트리아, 루마니아, 덴마크, 안도라, 헝가리, 오스트레일리아, 네덜란드 등			

# 자르기 뒷면

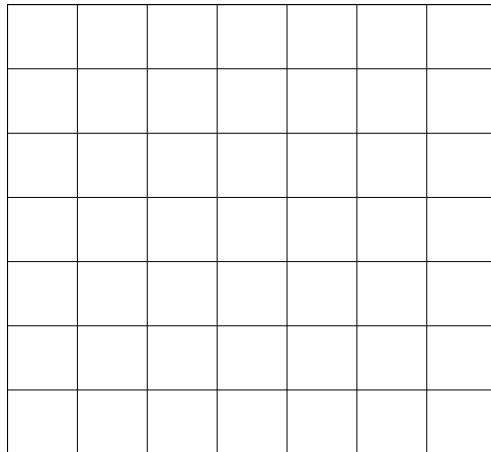
**배움주제** 규칙을 잘 찾아 숨어있는 동물 찾기

🍏 다음 규칙을 잘 읽고 문제를 해결해 보세요. 어떤 동물이 숨어있을까요?

**[규 칙]**


- ▶ 숫자는 연속된 색깔의 개수입니다.
- ▶ 흰색에서 검정색으로, 흰색에서 검정으로 바뀔 때마다 숫자와 숫자 사이에 “ , ”로 구분합니다. (예:2,3,4,2등..)
- ▶ 각각의 줄의 첫 번째 숫자가 **0이 아닌 숫자**일 경우에는 항상 흰색을 뜻합니다.
- ▶ 단, 첫 번째 숫자가 “0”이면 그 줄이 검은색 픽셀로 시작하는 것입니다.

<문제 1. 숫자를 그림으로>



1, 4, 2  
 4, 1, 2  
 2, 1, 4  
 0, 6, 1  
 7  
 1, 4, 2  
 1, 4, 2

<문제 2. 그림을 숫자로>



\_\_\_\_\_

\_\_\_\_\_

\_\_\_\_\_

\_\_\_\_\_

\_\_\_\_\_

\_\_\_\_\_

\_\_\_\_\_




< 문제 3 > 그림 속에는 무엇이 나타나 있을까요?>

																				2, 3, 7, 3, 5
																				1,2,2,1,1,3,1,1,2,2,4
																				1,2,1,9,1,2,4
																				2,13,5
																				1,4,3,2,3,3,4
																				0,5,1,1,1,2,1,1,1,4,3
																				0,5,3,2,3,5,2
																				0,18,2
																				0,6,6,2
																				0,5,8,5,2
																				1,3,3,4,3,3,3
																				1,3,4,2,4,2,4
																				2,3,2,3,4
																				3,3,6,3,5,2,4
																				5,8,7

공란

<문제 1. 정답>



1, 4, 2

4, 1, 2

2, 1, 4


0, 6, 1

7


1, 4, 2

1, 4, 2

<문제 2. 정답>



<문제 3. 정답>



2, 3, 7, 3, 5

1, 2, 2, 1, 1, 3, 1, 1, 2, 2, 4

1, 2, 1, 9, 1, 2, 4

2, 13, 5

1, 4, 3, 2, 3, 3, 4

0, 5, 1, 1, 1, 2, 1, 1, 1, 4, 3

0, 5, 3, 2, 3, 5, 2

0, 18, 2

0, 6, 6, 2

0, 5, 8, 5, 2

1, 3, 3, 4, 3, 3, 3

1, 3, 4, 2, 4, 2, 4

2, 3, 2, 3, 4

3, 3, 6, 3, 5, 2, 4

5, 8, 7

배움주제

규칙적인 운동

🍎 영상을 보며 빈칸에 알맞은 말을 넣어봅시다. (준비: 빨강, 파랑 색연필이나 사인펜) [인터넷 스마트폰 과의존 예방교육]



<https://www.youtube.com/watch?app=desktop&v=mPs3Fgn9iS4&feature=youtu.be>

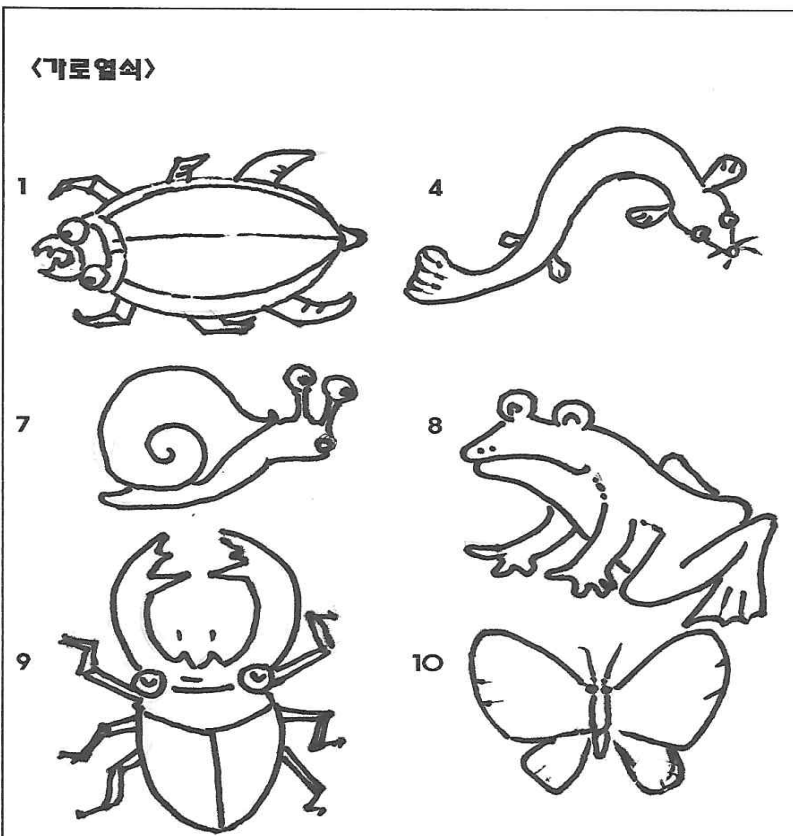
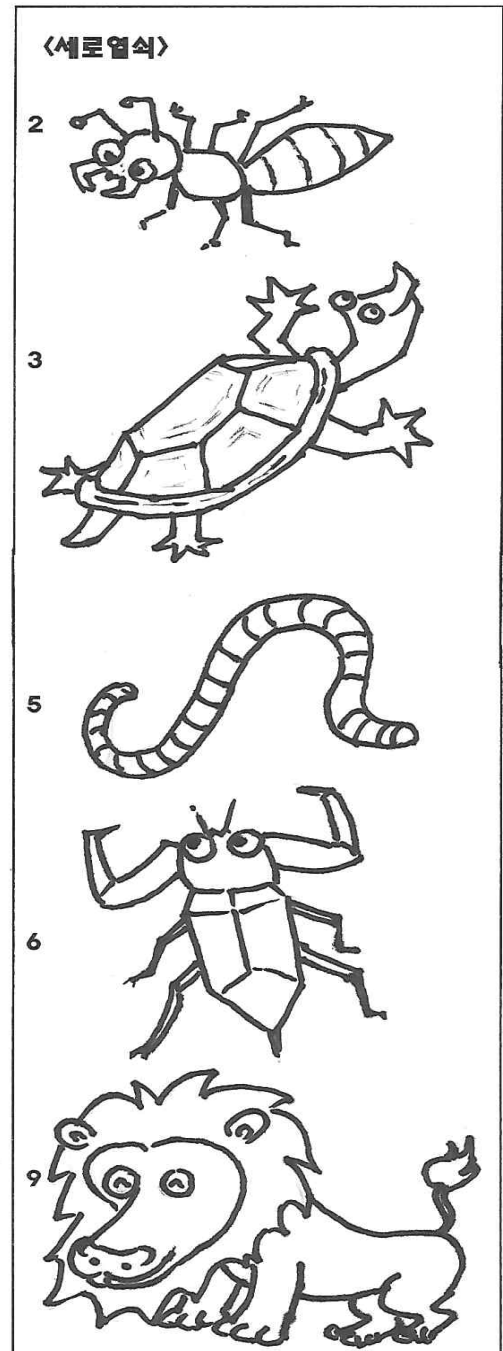
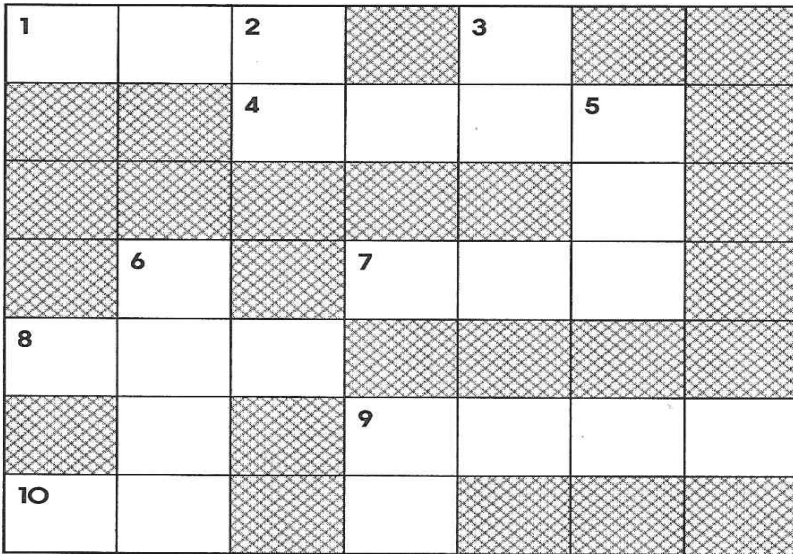
스마트한 세상		올바른 스마트폰 사용 O, X 퀴즈	즐겁고 스마트하게 게임을 하려면?
도움이 되는 콘텐츠는 (파란 동그라미)로 표시해주세요.	부작용 우려 콘텐츠는 (빨간 동그라미)로 표시해주세요.	1. 갖고 싶은 아이템을 꼭 사지 않아도 돼. (      ) 2. 밤에 몰래 스마트폰을 사용해도 돼. (      ) 3. 나이에 맞는 게임만 해야 돼. (      ) 4. 길거리나 횡단보도에서 게임을 해도 돼. (      )	게임할 때는... 1. (      )용 게임인지 먼저 확인하세요. 2. 친구와 과하게 (      )하지 않아요. 3. 친구를 (      )하지 않아요. 4. (      )을 먼저 한 다음 게임을 해요.
뉴스 (학습용)검색 금융 게임 SNS 동영상 영화 TV	온라인학습		
즐겁고 스마트하게 모바일 동영상을 보려면		즐겁고 스마트하게 웹툰을 보려면	스마트폰을 많이 사용하면 어떻게 될까요?
모바일 동영상을 볼 때는... 1. (      )에 맞는 동영상만 시청해요. 2. 함부로 (      )을 쓰지 않아요. 3. 약속된 (      )을 지켜요. 4. 나쁜 말과 행동은 (      )하지 않아요.		1. 정해진 (      )에, (      )한 만큼만 봐요. 2. (      )에서는 보지 않아요. 3. (      ) 때는 보지 않아요. 4. 초등학교 (      )에 맞는지 확인해요.	
스마트폰을 많이 사용하면 몸에 생기는 문제		스마트폰과 인터넷 건강한 사용을 위한 다짐	
<div> <div> <p>_____이 떨어져요</p> </div> <div> <p>_____이 나빠져요</p> </div> <div> <p>_____이 아파요</p> </div> <div> <p>_____가 잘 들리지 않아요</p> </div> <div> <p>_____이 아파요</p> </div> <div> <p>_____모양이 변해요</p> </div> </div>		1. 부모님과 함께 (      )을 정한 뒤 사용해요. 2. 가족들과 여러 가지 활동을 통한 행복한 시간을 가져봐요. 3. (      )로 사용해요. 4. 스마트 폰 대신 재미있게 놀 수 있는 아이디어를 만들어 봐요. 5. (      ) 말을 사용하지 않아요. 6. 안전하게 생각해요.	

[출처: 경기도교육청, 유튜브]

배움주제

겨울 탐정대의 친구 찾기 안녕

가로 열쇠와 세로 열쇠의 그림을 보고 알맞은 동물 이름을 번호에 맞게 써 봅시다.  
(동물도 색칠해 보세요.)



배움주제

‘북극곰아’ 노랫말 바꾸기



다음 노래를 들어 보고, 북극곰을 다른 동물로 바꾸고 뒤의 노랫말도 바꿔 불러 보세요.



북극곰아 북극곰아 너의 보드란 하얀 털이 난 좋아  
 북극곰아 북극곰아 너의 동그란 까만 눈이 난 좋아  
 공룡 책을 보다 보면 만나고 싶은 친구들이 너무 많아  
 미래에 아이들이 이 사진 보면  
 네가 너무 보고 싶어 못 견딜 거야  
 차가운 얼음 위에 네가 네가 살 수 있게  
 뜨거운 여름에도 내가 내가 참아 볼게  
 차가운 얼음 위에 네가 네가 살 수 있게  
 뜨거운 여름에도 에어컨을 잠시 꺼 둘게



제목 <

>

너의  난 좋아

너의  난 좋아

공룡 책을 보다 보면 만나고 싶은 친구들이 너무 많아  
 미래에 아이들이 이 사진 보면  
 네가 너무 보고 싶어 못 견딜 거야

너의  난 좋아

너의  난 좋아



배움주제

민주시민교육




“나에게는 꿈이 있습니다”라는 동영상을 시청하고 차별에 대하여 생각해 봅시다.




“나에게는 꿈이 있습니다”

마틴 루터 킹 목사  
(1929~1968)  
미국 내 흑인 인권운동가  
1964년 노벨 평화상



피부색에 따라 다른 화장실..



백인만 이용할 수 있는 식당



버스 안 백인 좌석과 흑인 좌석



“모든 사람은 소중하고 평등해요”

\*\* 내가 생각하는 평등은 ( ) 입니다.



다양한 차이와 모든 사람의 소중함을 인정하고 협력하며 협력을 위한 약속을 정해 봅시다.

다양한 모습으로 살아가는 우리의 이웃



모두 다르지만 모두 같은 사람



‘존중’ 받아야 하는 존재

협력

Cooperation

우리가 더불어 사는 세상을 만들어 가기 위해  
우리 이웃들의 차이를 존중하고 함께 서로 돕는 것을 말해요.

‘협력’을 위한 ( )의 약속

하나, \_\_\_\_\_

둘, \_\_\_\_\_



배부된 ‘2학년 학습꾸러미’는 저작권법(제25조 2항)에 따라 **학교 수업을 위한 저작물**(사진, 글, 그림, 영상 등)로 온라인학습의 활동지로만 이용 가능하며, 이 외의 용도로 본 저작물을 공유 및 게시하는 행위는 저작권법 위반에 해당될 수 있습니다.

#### ■ 참고 목록(출처)

교육부 전자저작물/ 유튜브

초등교사 커뮤니티 인디스쿨 / 부산광역시교육청 초등 학습꾸러미