

2학년



# 배움 꾸러미

2월 1주차



전주부설초등학교 2학년 1반 이름 :





손바닥을 원을 그리며  
문지르기



손등과 손바닥을  
문지르기



손가락지를 끼고  
문지르기



손을 마주 잡고  
문지르기



엄지 손가락을 잡고  
문지르기



손바닥을 손톱으로  
문지르기

“**코로나19** 예방하는  
**깨끗한 손씻기를**  
**실천해요**”



## 2월 1주차 주간학습안내 및 출석표 (2.2~2.4.)

전주부설초등학교 2학년 1반 이름 :

- 이 표는 '학습 내용 확인' 및 '출석부'의 역할을 합니다. 꾸러미 결과물은 다음 등교하는 날 담임 선생님께 확인 받습니다.  
매 수업이 끝나면 학생은 '스스로 확인해요' 칸에 '○'그리기(꼭 해야함),  
하루 학습이 끝나면 부모님께서 '부모님 확인' 칸에 부모님 서명을 해주세요.
- 학습 과제에 대해 궁금한 점 등은 다음 우리 학급 등교하는 날 담임선생님께 여쭙어봅니다.
- 아래 시간표는 학습의 순서입니다. (학습은 하루 중 시간에 상관없이 시간표 순서대로 공부해주세요. - EBS방송은 12월 31일을 끝으로 종료되어 따로 시청하지 않아도 됩니다.)
- 아래 주간학습안내 및 출석표는 등교/가정 학습과 상관없이 모두 표시되어 있습니다.

교시	2월 2일(화) 등교	2월 3일(수) 가정	2월 4일(목) 가정
1	창체	수학	수학
	개학 인사, 교실 정리하기	2학기 수학 복습 3. 길이 재기	2학기 수학 복습 4. 시각과 시간
		활동자료 1	활동자료 5
		스스로 확인해요	스스로 확인해요
2	국어	국어	창체
	2학기 국어 복습	10. 칭찬하는 말을 주고 받아요 - 나를 칭찬하는 그림 일기 쓰기	스마트폰 바르게 사용하기
		활동자료 2	활동자료 6
		스스로 확인해요	스스로 확인해요
3	수학	창체	국어
	2학기 수학 복습	일하는 사람이 누려야 하는 권리 알아보기	그림책 읽고 독후 활동하기
		활동자료 3	활동자료 7
		스스로 확인해요	스스로 확인해요
4	창체	국어	통합
	바르게 글씨쓰기	바른 글쓰기로 문장 쓰기	2. 가을아 어디 있니 - 사람들이 많이 모이는 곳에서 지켜야할 규칙 알아보기
		활동자료 4	활동자료 8
		스스로 확인해요	스스로 확인해요
부모님 확인			

※ 아이가 학습하는 공간을 따로 마련해주고 바른 자세로 앉아 학습할 수 있도록 지도 부탁드립니다.  
※ 하루 학습 후 학습 결과물에 대한 내용을 짧게 이야기한 후 부모님 확인 부탁드립니다.

배움주제

2학기 수학 복습 - '길이 재기' 되돌아보기

🍏 아래 문제를 해결하며, 3단원 '길이 재기'를 되돌아봅시다.

(정답은 꾸러미 뒷편에서 확인할 수 있어요.)

1 알맞은 수를 찾아 □ 안에 써넣으세요.

1	10	100	1000
---	----	-----	------

(1) 1 m는 1 cm를 □번 이은 것과 같습니다.

(2) 1 m는 10 cm를 □번 이은 것과 같습니다.

2 길이를 읽어 보세요.

8 m 45 cm
-----------

( )

3 바르게 나타낸 쪽에 ○표 하세요.

740 cm = 7 m 40 cm	3 m 5 cm = 350 cm
--------------------	-------------------

( ) ( )

4 cm와 m 중 알맞은 단위를 써 보세요.

(1) 연필의 길이는 약 15 □입니다.

(2) 버스의 길이는 약 10 □입니다.

5 길이가 가장 짧은 것은 어느 것입니까?

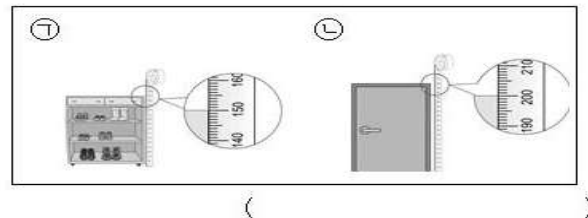
..... ( )

- ① 14 m 9 cm      ② 8 m 65 cm  
③ 870 cm      ④ 10 m  
⑤ 924 cm

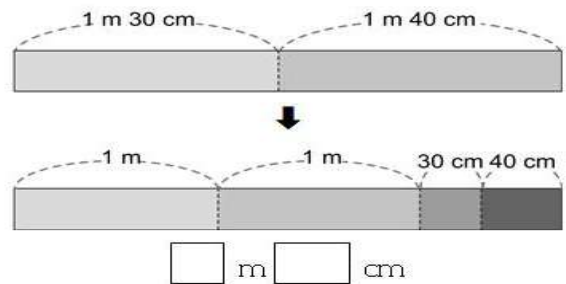
6 줄자를 사용하여 사물함의 길이를 재는 방법입니다. 순서에 맞게 □ 안에 숫자를 써넣으세요.

사물함의 다른 쪽 끝에 있는 줄자의 눈금을 읽습니다.	<input type="text"/>
사물함의 한끝을 줄자의 눈금 0에 맞춥니다.	<input type="text"/>

7 높이가 2 m인 물건을 찾아 기호를 쓰세요.



8 그림을 보고 □ 안에 알맞은 수를 써넣으세요.



9 계산을 하세요.

$$1 \text{ m } 82 \text{ cm} + 3 \text{ m } 10 \text{ cm} = \square \text{ m } \square \text{ cm}$$

10 찬희의 키는 1 m 42 cm입니다. 타조의 키는 찬희의 키보다 1 m 13 cm 더 클 때 타조의 키는 얼마인가요? .....

- ① 2 m 29 cm      ② 2 m 31 cm  
③ 2 m 45 cm      ④ 2 m 55 cm  
⑤ 2 m 73 cm



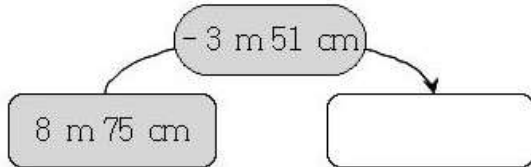
11 계산 결과가 더 큰 쪽의 기호를 쓰세요.

$$\textcircled{㉠} 4 \text{ m } 28 \text{ cm} + 3 \text{ m } 51 \text{ cm}$$

$$\textcircled{㉡} 2 \text{ m } 63 \text{ cm} + 5 \text{ m } 14 \text{ cm}$$

( )

12 빈칸에 알맞게 써넣으세요.



13 영진의 줄넘기의 길이는 아버지의 줄넘기의 길이보다 얼마나 더 짧은가요? ..... ( )

영진 1 m 53 cm

아버지 2 m 60 cm

① 1 m 7 cm                      ② 1 m 13 cm

③ 1 m 35 cm                    ④ 1 m 47 cm

⑤ 1 m 70 cm

14 헤민이는 길이가 7 m 80 cm인 리본을 가지고 있었습니다. 선물을 포장하는 데 2 m 35 cm 사용했다면 남은 리본은 몇 m 몇 cm인지 풀이 과정을 쓰고 답을 구하세요.

<풀이 과정> \_\_\_\_\_

<답> \_\_\_\_\_

15 빈칸에 들어갈 길이는 몇 m 몇 cm인가요?

$$9 \text{ m } 43 \text{ cm} - \square = 5 \text{ m } 20 \text{ cm}$$

( )

16 ㉠과 ㉡의 차는 몇 m 몇 cm인지 풀이 과정을 쓰고 답을 구하세요.

$$\textcircled{㉠} 11 \text{ m } 15 \text{ cm} + 7 \text{ m } 52 \text{ cm}$$

$$\textcircled{㉡} 23 \text{ m } 48 \text{ cm} - 12 \text{ m } 34 \text{ cm}$$

<풀이 과정> \_\_\_\_\_

<답> \_\_\_\_\_

17 몸에서 약 1 m를 바르게 찾은 사람은 누구인가요?



현우



소진



아현

( )

18 길이가 1 m보다 긴 것은 어느 것인가요?

..... ( )

① 젓가락의 길이                      ② 대문의 높이

③ 책상의 높이                      ④ 크레파스의 길이

⑤ 모니터의 긴 쪽의 길이

19 우산의 길이가 1 m라면 악어의 길이는 약 몇 m인가요? ..... ( )



① 약 2 m                      ② 약 3 m                      ③ 약 4 m

④ 약 5 m                      ⑤ 약 6 m

20 영우의 한 걸음은 약 50 cm입니다. 영우가 걸음으로 축구 골대의 길이를 재었더니 10걸음이 었다면 축구 골대의 길이는 약 몇 m인가요?

..... ( )

① 약 3 m                      ② 약 4 m                      ③ 약 5 m

④ 약 6 m                      ⑤ 약 7 m

배움주제

나를 칭찬하는 그림일기 쓰기

🍏 다음 영상을 시청하고 나서 나를 칭찬하는 그림일기를 완성해 봅시다.  
< 칭찬 일기 쓰는 방법 >



<https://www.youtube.com/embed/8nDPRwM1BEY?list=PLVoN2xu1UX07bsJoRT-dg0-kdQljR5v5q>

2021년      월      일      요일      날씨:

제목-----

-----

-----

-----

-----

-----

배움주제

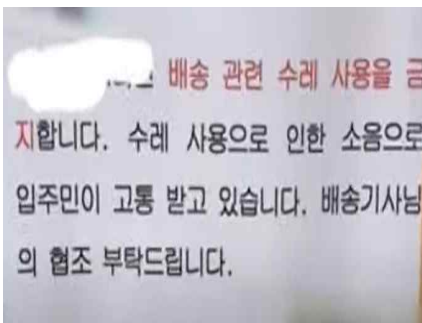
일하는 사람들이 누려야 하는 권리 알기

🍏 다음 한 아파트에서 있었던 일을 보여주는 영상을 보고 질문에 답해봅시다.

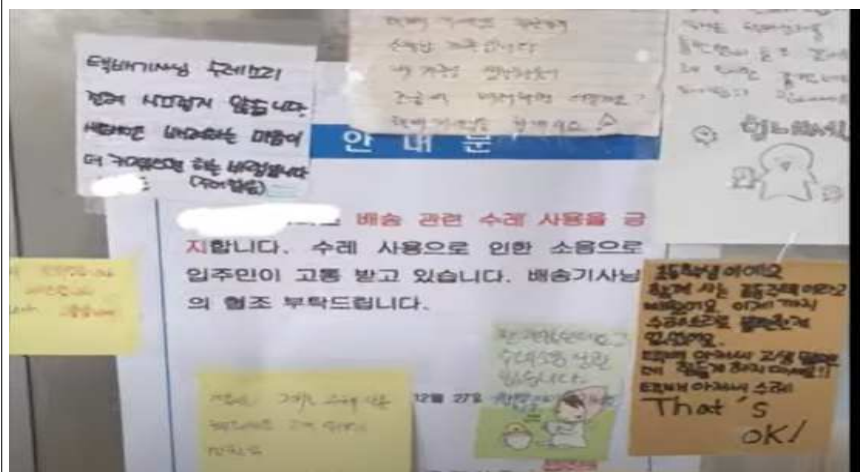
<https://www.youtube.com/embed/V3xtemyU4o0>



1. 엘리베이터에 붙어 있던  
<배송수레 사용 금지> 안내문



2. 안내문을 보고 주민들이 붙인 쪽지들



1. 내가 만약 택배기사인데 1번과 같이 택배기사님들이 배송수레 사용을 못하도록 하는 안내문을 보았다면 어떤 기분이 들었을까요?

2. 2번에 있는 쪽지들을 보신 택배기사님의 기분은 어땠을까요?

3. 사람들은 자신의 일을 할 때, 안전하고 일하기 좋은 환경을 제공받을 권리가 있어요. 택배기사님 외에도 아파트 경비원아저씨, 청소아주머니, 편의점 아르바이트생, 전화로 답변해주는 콜센터 직원 등등 우리 주변에서 도움을 주시는 분들 중에서 한 분을 골라 여러분이 도움을 드릴 수 있는 일을 적어 보세요.



배움주제

바른 글쓰기로 문장 써 보기

바른 글씨로 또박또박 다음 문장을 써 봅시다.

1.	정	말		꼼	꼼	하	게		잘	했	어	.					
	정	말		꼼	꼼	하	게		잘	했	어	.					
2.	노	랫	말	도		벌	써		다		외	웠	네	.			
	노	랫	말	도		벌	써		다		외	웠	네	.			
3.	네		목	소리		정	말		종	다	.						
	네		목	소리		정	말		종	다	.						
4.	그	렇	게		칭	찬	해		줘	서		고	마	워			
	그	렇	게		칭	찬	해		줘	서		고	마	워			
5.	나	는		그	게		부	러	운	걸	?						
	나	는		그	게		부	러	운	걸	?						

멋지게 공연하자.

6.

멋지게 공연하자.

또박또박 말을 잘한다.

7.

또박또박 말을 잘한다.

글씨를 예쁘게 잘 써.

8.

글씨를 예쁘게 잘 써.

네 글씨도 바른걸?

9.

네 글씨도 바른걸?

네가 정말 멋져 보여.

10.

네가 정말 멋져 보여.

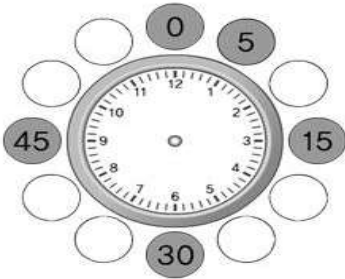
배움주제

2학기 수학 복습 - '시각과 시간' 되돌아보기

🍏 아래 문제를 해결하며, 4단원 '시각과 시간'를 되돌아봅시다.

(정답은 꾸러미 뒷편에서 확인할 수 있어요.)

- 1 시계에서 각각의 숫자가 몇 분을 나타내는지 ○ 안에 써넣으세요.



- 2 다음 시계를 보고 □ 안에 알맞은 수를 써넣으세요.



시계의 짧은바늘이 5와 □ 사이에 있고, 긴바늘이 □를 가리키므로 □시 □분입니다.

- 3 관계있는 것끼리 선으로 이어 보세요.



• 2시 34분



• 6시 13분

• 9시 16분

- 4 그림을 보고 영진이가 몇 시 몇 분에 무엇을 하였는지 설명해 보세요.



- 5 소희가 말하는 시각에 맞게 시계에 나타내어 보세요.



수영이 끝난 시각은 4시 12분이에요.



- 6 시각을 시계에 옳게 나타낸 것에 ○표 하세요.

3시 10분 전



( )



( )

- 7 주어진 시계를 보고 바르게 설명한 것을 찾아보세요. .... ( )



- ① 1시 9분입니다.
- ② 2시 45분을 나타내고 있습니다.
- ③ 1시 15분 전이라고 할 수 있습니다.
- ④ 2시가 되려면 15분이 더 지나야 합니다.
- ⑤ 10시가 되려면 15분이 더 지나야 합니다.

- 8 11시 5분 전의 시각을 오른쪽 시계에 나타내어 보세요.



- 9 □ 안에 알맞은 수를 써넣으세요.

(1) 65분 = □ 시간 □ 분

(2) 1시간 30분 = □ 분

- 10 다음 시계가 나타내는 시각에서 100분 후의 시각은 몇 시 몇 분인가요? ..... ( )



- ① 4시 40분    ② 4시 50분    ③ 5시  
④ 5시 10분    ⑤ 5시 20분

- 11 책을 읽기 시작한 시각과 끝낸 시각이 다음과 같을 때, 책을 읽은 시간은 몇 시간 몇 분인지 풀이 과정을 쓰고 답을 구하세요.

<시작한 시각>



<끝낸 시각>



<풀이 과정> \_\_\_\_\_

<답> \_\_\_\_\_

- 12 시계가 3시를 나타내고 있습니다. 긴바늘이 한 바퀴를 돌고 난 후 짧은 바늘이 가리키는 숫자는 얼마인가요?

( )

- 13 □ 안에 알맞은 수를 써넣으세요.

하루는 □ 시간입니다.

- 14 가장 긴 시간을 찾아 기호를 쓰세요.

- ㉠ 49시간  
㉡ 1일 17시간  
㉢ 2일 3시간

( )

- 15 다음 중 오전에 한 일을 모두 찾아보세요.

..... ( )

- ① 새벽 6시에 일어났습니다.  
② 밤 9시에 일기를 썼습니다.  
③ 낮 12시에 점심을 먹었습니다.  
④ 아침 10시에 도서관에 갔습니다.  
⑤ 저녁 11시에 잠을 자려고 누웠습니다.

- 16 설명이 틀린 사람을 찾아보세요.

인태: 3주일 2일은 23일입니다.

다연: 51개월은 4년 1개월입니다.

( )

- 17 날수를 써 보세요.

(1) 5월 ➡ ( )

(2) 11월 ➡ ( )

10월						
일	월	화	수	목	금	토
		1	2	3	4	5

- 이 달의 넷째 금요일은 며칠인가요? .. (       )
- ① 18일            ② 21일            ③ 25일
- ④ 27일            ⑤ 30일

- 이 달의 토요일의 날짜를 모두 써 보세요.
- (                                  )

- 이 달의 마지막 날은 무슨 요일인지 풀이 과정을 쓰고 답을 구하세요.

〈풀이 과정〉 \_\_\_\_\_

〈5〉 \_\_\_\_\_



배움주제

스마트폰 바르게 사용하기

🍏 영상을 보고 빈칸에 알맞은 말을 넣어봅시다. (준비: 빨강, 파랑 색연필이나 사인펜)

<https://www.youtube.com/embed/j-l2P5INoJw>



스마트한 세상		올바른 스마트폰 사용 O, X 퀴즈	즐겁고 스마트하게 게임을 하려면?
<p>도움이 되는 콘텐츠는 (파란 동그라미)로 표시해주세요.</p> <p>문제가 생길 수 있는 콘텐츠는 (빨간 동그라미)로 표시해주세요.</p>	<p>뉴스 (학습용) 검색</p> <p>은행업무</p> <p>게임 SNS 동영상</p> <p>영화 TV</p>	<p>1. 갖고 싶은 아이টে을 꼭 사지 않아도 돼. ( )</p> <p>2. 밤에 몰래 스마트폰을 사용해도 돼. ( )</p> <p>3. 나이에 맞는 게임만 해야 돼. ( )</p> <p>4. 길거리나 횡단보도에서 게임을 해도 돼. ( )</p>	<p>게임할 때는...</p> <p>1. ( )용 게임인지 먼저 확인하세요.</p> <p>2. 친구와 과하게 ( )하지 않아요.</p> <p>3. 친구를 ( )하지 않아요.</p> <p>4. ( )을 먼저 한 다음 게임을 해요.</p>
즐겁고 스마트하게 모바일 동영상을 보려면		즐겁고 스마트하게 웹툰을 보려면	스마트폰을 많이 사용하면 어떻게 될까요?
<p>모바일 동영상을 볼 때는...</p> <p>1. ( )에 맞는 동영상만 시청해요.</p> <p>2. 함부로 ( )을 쓰지 않아요.</p> <p>3. 약속된 ( )을 지켜요.</p> <p>4. 나쁜 말과 행동은 ( )하지 않아요.</p>		<p>1. 정해진 ( )에, ( )한 만큼만 봐요.</p> <p>2. ( )에서는 보지 않아요.</p> <p>3. ( ) 때는 보지 않아요.</p> <p>4. 초등학교 ( )에 맞는지 확인해요.</p>	<p>1. 스마트폰 말고 다른 것에 ( )하지 못해요.</p> <p>2. 스마트폰을 ( )에서 놓을 수 없어요.</p> <p>3. 여러 가지 ( )들이 생길 수 있어요.</p>
스마트폰을 많이 사용하면 몸에 생기는 문제			스마트폰과 인터넷 건강한 사용을 위한 다짐
			<p>1. 부모님과 함께 ( )을 정한 뒤 사용해요.</p> <p>2. 가족들과 여러 가지 활동을 통한 행복한 시간을 가져봐요.</p> <p>3. ( )로 사용해요.</p> <p>4. 스마트 폰 대신 재미있게 놀 수 있는 아이디어를 만들어 봐요.</p> <p>5. ( ) 말을 사용하지 않아요.</p> <p>6. 안전하게 생각해요.</p>

배움주제

그림책을 읽고 독후 활동 해보기

🍏 그림책 영상을 보고 빈칸을 채워보세요.



▶ <https://www.youtube-nocookie.com/embed/0AVb3Uqe03U?rel=0>

🍏 2020년 경자년(庚子年)은 하얀 쥐의 해, 2021년 신축년(辛丑年)은 하얀 소의 해예요. 이렇게 해마다 대표 동물이 생긴 이유는 무엇인가요?

옥황상제가 해마다 대표 동물을 정해 놓으면  
게 기억할 수 있을거라고 생각했기 때문입니다.

E O L H 를 쉽

🍏 뱀의 다리는 어떻게 없어지게 되었나요?




🍏 열두 띠 이야기에 나온 인물 중 가장 기억에 남거나 마음에 드는 인물은 누구인가요? 이유는 무엇인가요?

인물 이름	
이유	

🍏 내가 옥황상제라면, 대회가 끝나고 나서 쥐와 고양이에게 무슨 말을 하고 싶나요?

쥐에게	
고양이에게	

🍏 가족이나 친척이 태어난 해의 띠가 무엇인지 알아보고 그 동물을 색칠해봅시다.



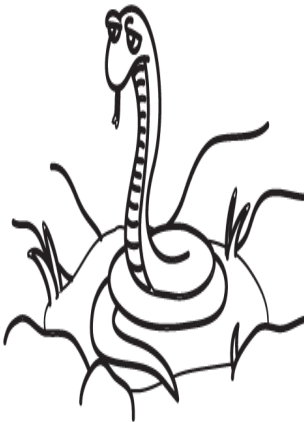



가족

가족

가족

가족







가족

가족

가족

가족



가족

가족

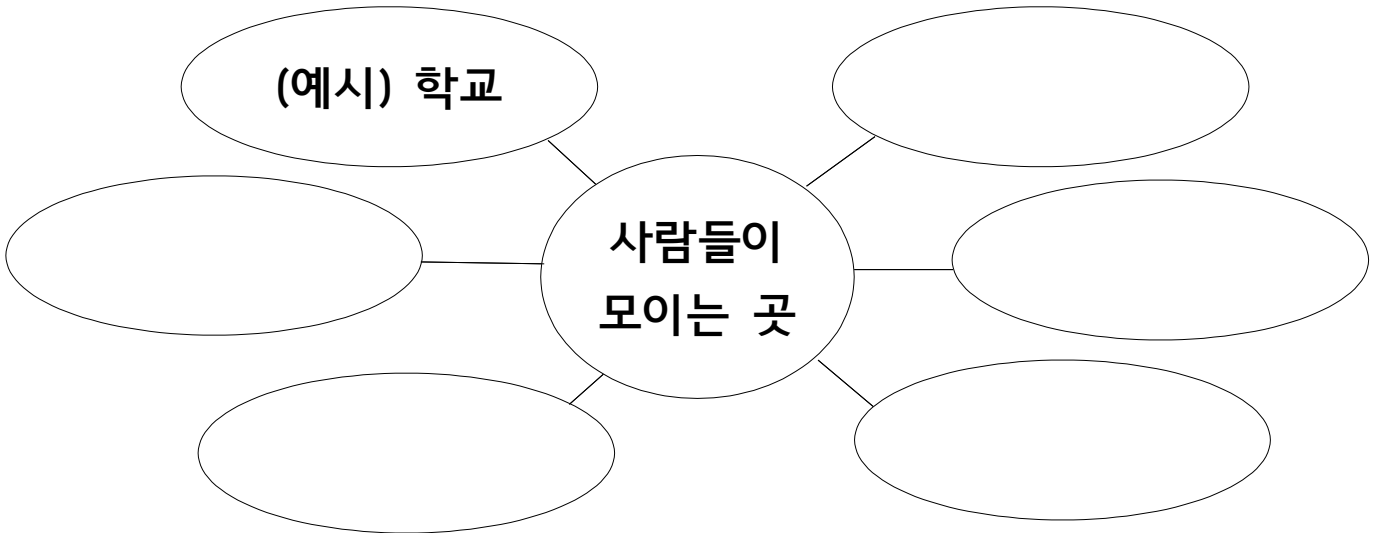
가족

가족

배움주제

사람들이 많이 모이는 곳에서 지켜야 할 질서와 규칙 알아보기

🍏 사람들이 모이는 곳을 알아보시다. ○안에 알맞은 장소를 써보세요.



🍏 다음 만화를 읽어보면서 사람들이 모이는 곳에서 지켜야 할 행동을 알아보시다.







🍏 다음 그림을 보고 사람들이 모이는 곳에서 지켜야 할 알맞은 행동을 써봅시다.

1		엘리베이터에서 _____
2		도서관에서 _____
3		화장실에서 _____
4		지하철에서 _____
5		공원에서 _____




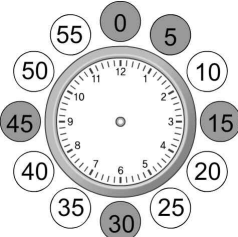
### 〈활동자료 1 정답표〉

문제 번호	정답
1	(1) 100 (2) 10
2	8 미터 45 센티미터
3	(○)( )
4	(1) cm (2) m
5	②
6	2, 1
7	㉞
8	2, 70
9	4, 92
10	④
11	㉟
12	5 m 24 cm
13	①
14	아래 참고, 5 m 45 cm
15	4 m 23 cm
16	아래 참고, 7 m 53 cm
17	소진
18	②
19	③
20	③

14. 예 길이가 7 m 80 cm인 리본에서 선물을 포장하는 데 2 m 35 cm를 사용했으므로 뺄셈을 이용해 남은 리본의 길이를 구하면  $7\text{ m }80\text{ cm} - 2\text{ m }35\text{ cm} = 5\text{ m }45\text{ cm}$ 입니다. 답 5 m 45 cm

16. 예 ㉟  $11\text{ m }15\text{ cm} + 7\text{ m }52\text{ cm} = 18\text{ m }67\text{ cm}$ , ㉞  $23\text{ m }48\text{ cm} - 12\text{ m }34\text{ cm} = 11\text{ m }14\text{ cm}$ 입니다. 따라서 ㉟ - ㉞ =  $18\text{ m }67\text{ cm} - 11\text{ m }14\text{ cm} = 7\text{ m }53\text{ cm}$ 입니다. 답 7 m 53 cm

# <활동자료 5 정답표>

문제 번호	정답
1	아래 참고
2	6, 2, 5, 10
3	
4	아래 참고
5	아래 참고
6	( ○ ) (   )
7	④
8	아래 참고
9	(1) 1, 5   (2) 90
10	⑤
11	아래 참고, 1시간 35분
12	4
13	24
14	㉔
15	①, ④
16	다연
17	(1) 31일 (2) 30일
18	③
19	5일, 12일, 19일, 26일
20	아래 참고, 목요일
1.	<div><div></div><div>11. 예 8시 35분    1시간 후    9시 35분 25분 후    10시    10분 후    10시 10분 따라서 태희가 책을 읽은 시간은 1시간 35분입니다. 답 1시간 35분</div></div>
4. 예 영진은 12시 36분에 이를 닦았습니다.	
5.	
8.	
	<div>20. 예 10월은 31일까지 있습니다. 10월 1일은 화요일이므로 8일, 15일, 22일, 29일도 화요일입니다. 따라서 10월 30일은 수요일이고, 10월 31일은 목요일입니다. 답 목요일</div>